

16. () 我國在解嚴後進行人民團體法之修正，以落實中華民國憲法中結社自由之實質保障，自此各種人民團體亦如雨後春筍般蓬勃發展。以政治團體為例，截至98年12月底，在政府備案政黨名冊中已共計有158個；然而，反觀各項公職人員當選名單中，實際取得執政機會的政黨數目卻是寥寥可數。上述登記有案與實際取得執政機會之政黨數目間的落差，主要顯示我國何種政黨現象？
- (A)獨大型政黨居多 (B)揹客型政黨居多
(C)外造型政黨居多 (D)泡沫型政黨居多
17. () 公民投票讓一般民眾有機會直接對重要的公共事務表達意見，下列那一個選項對公民投票的敘述是正確的？
- (A)公民投票能讓外籍人士也參與本國政治
(B)公民投票可以彌補代議政治的不足
(C)國家的各種政策都可以交由公民投票來決定
(D)公民投票是多數決，議題不須經過充分討論
18. () 2009年2月間日本財務兼金融大臣中川昭一在羅馬「七大工業國會議」記者會中，因酒醉而胡言亂語，加上日本政府面對金融危機的應變失當，引發社會不滿，因而辭職下台。請問：中川大臣的辭職，顯示民主政治的何種運作原則？
- (A)民意政治 (B)責任政治 (C)政黨政治 (D)法治政治
19. () 附表是花媽家十一月份的支出帳目，其中共有多少元屬於我國的政府收入？
- | 支出項目金額 | 購買公債 | 繳地價稅 | 繳房屋貸款 | 水電費 | 投資購買股票 |
|--------|-------|------|--------|-------|--------|
| | 5000元 | 800元 | 20000元 | 2000元 | 10000元 |
- (A)37800元 (B)17800元 (C)7800元 (D)2800元
20. () 志明為了因應大賣場絡繹不絕的消費顧客，於是登廣告招聘新員工。志明此一行為是屬於經濟活動循環中的那一項？
- (A)生產要素供給 (B)生產要素需求 (C)商品供給 (D)商品需求
21. () 月光族是指每個月將所賺的錢用光、花光的人，他們只要吃得開心，穿得漂亮，根本不在乎錢財，顯然這些人缺乏什麼樣的概念？
- (A)理財 (B)賺錢 (C)消費 (D)創業

22. () 一般而言，經濟制度可區分為市場經濟與計畫經濟。經濟學家是以下列何者介入經濟的方式與程度來區分經濟制度？
(A)消費者 (B)企業 (C)政府 (D)勞工
23. () 為了促進我國消費者權益之保障，中華民國消費者文教基金會、行政院消費者保護委員會分別於1980、1994年成立，2008年財團法人海峽交流基金會與海峽兩岸關係協會第二次會談中，亦對食品安全管理機制進行協商。上述組織中，屬於我國的官方機構者共有幾項？
(A)1項 (B)2項 (C)3項 (D)4項
24. () 下列那一位人士的生活狀態會被政府歸類為「失業」人口？
(A)13歲的阿海辦理休學後，正找工作好貼補家用
(B)26歲的小莉今年嫁做人婦，專心在家相夫教子
(C)18歲的阿榮為了服兵役，辭掉便利商店的工作
(D)24歲的小玲大學畢業前即寄履歷表求職，二年來還在等回音
25. () 許多高汙染的產業會由先進國家遷廠至第三世界國家，若以生產者的角度來思考，下列那種說法最能解釋此現象？
(A)第三世界國家的環保法規較嚴格 (B)可以增加第三世界國家就業人口
(C)藉以降低生產成本擴展企業版圖 (D)可以促使先進國家的產業升級
26. () 下列那一個英文縮寫是指現今全球性最大的國際貿易組織，這個組織以促進貿易自由化、解決國際貿易問題為宗旨？
(A)APEC (B)UN (C)WTO (D)OPEC
27. () 2008年發生的美國次級房貸及全球金融危機，導致臺灣經濟衰退，針對此狀況，中央銀行可採用那些貨幣政策以刺激投資？
①降低重貼現率 ②調高存款準備率 ③發行消費券 ④在貨幣市場買回公債
(A)①③ (B)①④ (C)②③ (D)②④
28. () 亞當斯密說：「每一個勤儉持家的人都會奉行：如果外面買的比在自己家裡做的便宜，那就不要自己做。裁縫師不會想要自己做鞋子，而會跟製鞋人買。製鞋人不會想要自己做衣服，而會跟裁縫師訂做」。這句話所闡述的經濟學原理為何？
(A)比較利益 (B)規模經濟 (C)供需法則 (D)市場失靈

29. () 政府擬規劃實施國中小學營養午餐全面免費，但有立法委員擔心會產生經費的排擠效應。立法委員所擔憂的經費排擠最能說明經濟學上的那一種概念？
 (A)外部成本 (B)比較利益 (C)機會成本 (D)供需失衡
30. () 傑綸和志齡合夥開【狗不理包子店】，店裡販售鮮肉包和豆沙包。下表是兩人每小時的平均產量，根據下表的資料，下列敘述何者正確？

【狗不理包子店】每小時平均產量表

品名	姓名	傑綸	志齡
鮮肉包		40個	50個
豆沙包		30個	40個

- (A)以鮮肉包而言，傑綸每做一個的機會成本比志齡低
 (B)以豆沙包而言，志齡每做一個的機會成本比傑綸高
 (C)不論是做鮮肉包或是豆沙包，志齡都具有比較利益
 (D)若依據比較利益原則分工，傑綸應該專業做豆沙包
31. () 下列何者最符合「平等」的意義？
 (A)男生、女生均不用服兵役 (B)考試時延長視障生作答時間
 (C)制定法律規定性交易罰娼不罰嫖 (D)政府規定按摩工作限由視障者從事
32. () 明華園歌仔戲起源於宜蘭，發展至今已有一百多年的歷史，但表演風格已由早期的歌謠轉變為現代的劇場形式。上述內容主要在說明文化的何種現象？
 (A)普遍性 (B)差異性 (C)文化失調 (D)文化創新
33. () 我國馬拉松選手林義傑參加過許多難度極高的國際比賽，他曾經用110天跑過7500公里，橫越撒哈拉沙漠，挑戰世界紀錄成功。他這種不斷接受挑戰的精神，主要是滿足馬斯洛需求理論中的那一層次的的需求？
 (A)生理需求 (B)安全需求 (C)自我實現 (D)愛與歸屬的需求
34. () 下列那些事例，是受到「全球化」的影響所產生？
 ①國際間有形的疆界越來越明顯
 ②文化交流機會變多
 ③強勢文化傳播威脅弱勢族群的生存
 ④企業遷移到成本低的地區，造成遷出地區關廠失業
 (A)①②③ (B)①②④ (C)①③④ (D)②③④

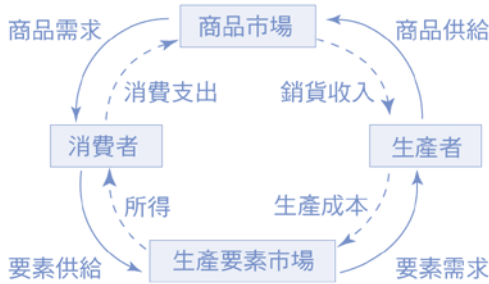
35. () 持文化多元主義觀點的學者，強調各種文化的存在均有其價值，因此他們主張對不同族群的文化應加以尊重。在臺灣，下列何種具體措施可落實文化多元主義的精神？
- (A) 鼓勵原住民族群全力學習漢人主流文化
(B) 推行母語教學，學習尊重不同族群的語言與文化
(C) 將不同族群的生活聚落隔開，以降低族群間的摩擦
(D) 強化各族群團體的自我意識，立法禁止不同族群通婚

解答與提示

1. C；公平交易法乃是為維護交易秩序與消費者利益，確保交易公平，並促進經濟之安定與繁榮而制定的法律，主要在規範事業的獨占、結合、聯合行為、防止不公平的競爭等。由於錢櫃KTV與好樂迪合併有可能會造成市場上的獨占或壟斷，因而影響到消費者的利益，政府依法未予同意，此法乃是指公平交易法，故本題正確答案為(C)。
2. B；根據鄉鎮市調解條例第1條：鄉、鎮、市公所應設調解委員會，辦理下列調解事件：一、民事事件。二、告訴乃論之刑事事件。
由上開法條得知，可以申請調解的事件包括①民事事件、③告訴乃論的刑事案件，答案為選項(B)。
3. B；根據憲法增修條文第3條：立法院得經全體立法委員三分之一以上連署，對行政院院長提出不信任案。得知本題正確答案為選項(B)。
4. D；(A)錯誤：小李不須先向法院提起刑事訴訟，可逕自提起民事訴訟。
(B)錯誤：證據應由當事人提出，法院一般不主動參與當事人的調查取證。
(C)錯誤：依據民事訴訟法第68條第1項之規定，原告與被告均得聘請律師為訴訟代理人。
(D)正確：和解是指民事糾紛中自訴人在法院判決前，可以同被告人自行協商就某項爭議達成和解的協議，經法院同意後，自訴人可以撤訴。
5. D；依《公民投票法》第54條規定：公民投票若涉及中央與地方職權劃分或法律之爭議時，由大法官解決之。而大法官隸屬於司法院，故本題正確答案為選項(D)。
6. C；行政訴訟：行政救濟（分為訴願或行政訴訟）是指人民因行政機關違法或不當行政處分，造成人民權益受損，人民有權向國家要求撤銷或變更原處分之救濟方法。
題目中，對政府的行政處分不服，既為行政處分，其依法所應採取的救濟行為就應是行政救濟（訴願＋行政訴訟），故本題正確答案為(C)。
7. B；根據《刑事訴訟法》第37條：『告訴乃論之罪，其告訴應自得為告訴之人知悉犯人之時起，於六個月內為之。』，得知本題正確答案為選項(B)。
8. A；依我國國籍法第2條的規定（中華民國國籍之生來取得）：『有下列各款情形之一者，屬中華民國國籍：一、出生時父或母為中華民國國民。二、出生於父或母死亡後，其父或母死亡時為中華民國國民。』，得知我國國民取得國籍之認定，是以父母子女之血緣關係做為基礎，因此是遵循屬人主義，答案為(A)。
9. B；(A)公司法：公司法乃是明定與規範公司屬於民法的特別法。
(B)勞動基準法：乃是為規定勞動條件最低標準，保障勞工權益，加強勞雇關係，促進社會與經濟發展，所制定的法律。屬於行政法，故選(B)。
(C)刑事訴訟法：是法律關於追訴犯罪而設的權利救濟程序。屬於刑事法規。
(D)家庭暴力防治法：乃是為防治家庭暴力行為發生及保護被害人的權益的法律，是屬於刑事法規。

10. B；《憲法》第8條：「人民身體之自由應予保障。除現行犯之逮捕由法律另定外，非經司法或警察機關依法定程序，不得逮捕拘禁。非由法院依法定程序，不得審問處罰。非依法定程序之逮捕、拘禁、審問、處罰，得拒絕之。」，人身自由又稱為人身不可侵犯權，為一切自由權利的基礎，故選項(B)為正確答案。
11. C；比例原則：即行政的手段必須合乎比例，其內涵又包括了：
- (1) 適當性：採取的手段與方法必須有助於目的的達成。
 - (2) 必要性：採取的手段與方法有許多時，必須採取對人民損害最少者。
 - (3) 妥當性：採取的手段與方法不能與欲達成的目的獲利亦顯失均衡。
- 故由以上敘述得知，憲法限制人民權利應遵守比例原則。選(C)。
12. B；兒童及少年福利法：兒童及少年福利法：本法乃是政府為要保護兒童（12歲以下）及少年（12歲至18歲之人）的權益，所訂定的法律，裡面的內容是告訴小朋友哪些事不能做，如何保護自己，也告訴大人對小朋友不能做哪些事，並要提供小朋友一個安全的成長環境。題目所問有可能危及兒童及青少年身心的新聞，故可能違反兒童及少年福利法，本題正確答案為(B)。
13. B；褫奪公權乃是剝奪犯罪行為人的公法所賦予的資格，見《刑法》第三十六條：
- 『褫奪公權者，褫奪左列資格：一、為公務員之資格。二、公職候選人之資格。』。
- 由上述條文敘述得知，因犯罪而被宣告褫奪公權者，會遭剝奪②擔任公務員之資格、③登記成為公職候選人，故本題正確答案為選項(B)。
14. #；考選部公告本題一律給分。
15. A；我國的立委選舉是採單一選區兩票制，選舉時將全國分區，選區內的選民投票時每個人有兩票，一票投給區域立委候選人，另一票投給政黨，代表各黨的路線和形象。每一政黨可獲得不分區立委的席次：
- 國民黨政黨票得票率：51%（51%+37%） \approx 57.9545%
 國民黨不分區立委席次：34人 \times 57.9545% \approx 19.70453 \approx 20人
 民進黨政黨票得票率：37%（51%+37%） \approx 42.0455%
 民進黨不分區立委席次：34人 \times 42.0455% \approx 14.29547 \approx 14人
- 台灣團結聯盟、新黨與其它政黨的投票率分別都未達5%的門檻，故不可分配席次。
16. D；本題所問在解嚴後，登記名冊有158個，然擁有執政機會的政黨卻只有2個，顯示執政機會與政黨數目間的落差，此乃顯示我國大多數政黨屬於泡沫型政黨，答案為(D)。
17. B；(A)錯誤：根據《公民投票法》第7條，只有中華民國國民才可以參與公民投票。
 (C)錯誤：根據《公民投票法》第2條，公民投票只限於法律或重大政策或地方自治法規的創制或複決，並非國家的各種政策都可以交由公民投票來決定。
 (D)錯誤，雖然公民投票是多數決，但議題仍需經過充分的討論始得逕付提案。
18. B；執政者因為政策執行失敗或不符合民意或個人操守問題，應辭職下台，以負起政治責任。例如：98年88水災，行政院長劉兆玄與部分內閣官員請辭下台，即為責任政治表現。
19. C；政府的收入包括：租稅收入、規費收入、舉債收入、罰款、公營事業所得及其他收入。
 本題題幹表中屬於政府收入者，包括；購買政府公債5,000元+繳交地價稅800元+水電費2000元=7800元，正確答案為選項(C)。

20. B；以下圖示消費者與生產者的經濟角色圖示：



人力屬於生產要素，因此招募新員工是屬於生產要素需求，故本題正確答案為(B)。

21. A；(A)理財：希望藉由良好的財務規劃，使得往後的生活不虞匱乏。

(B)賺錢：藉由工作轉取所得以滿足生活所需。

(C)消費：滿足日常生活中各方面需求而使用財貨與勞務的經濟行為。

(D)創業：自己經營事業，以賺取利潤。

本題題幹的月光族將每月的錢花用殆盡，不在乎錢財，顯然是缺乏財務規劃即理財的概念，故本題正確答案為選項(A)。

22. C；

	市場經濟	統制經濟
別稱	自由經濟	計劃經濟
意義	大部分的生產與消費是透過市場來進行，政府只維持著基本的法律和秩序。	政府透過中央集權，決定經濟活動裡的大小事項。
制度	資本主義經濟制度	共產主義或社會主義的經濟制度
經濟活動主導者	市場價格（無形的手）	政府（有形的手）
資源所有者	人民（個人為中心）	政府

由以上表格陳述得知，經濟學家是以政府介入的程度以區分市場經濟與計劃經濟，答案為選項(C)。

23. A；(1)中華民國消費者文教基金會：非政治性、非營利性的純民間公益、公義財團法人，台灣非官方的組織。

(2)行政院消費者保護委員會：本會係依據消費者保護法第40條規定，由行政院依法設置，為內閣部會之一，可獨立行使職權。故其屬於台灣行政院的官方組織。

(3)財團法人海峽交流基金會(海基會)：1991年2月，由政府及部分民間人士共同捐助成立，屬於台灣非官方組織。

(4)海峽兩岸關係協會(海協會)：1991年12月，中國大陸也成立了相似於海基會性質的機構「海峽兩岸關係協會」，做為與海基會互動的窗口。屬於中國大陸非官方組織。

24. D；(1)我國失業者之定義係參採國際勞工組織（ILO）之規定，與世界各主要國家勞動力調查公布之失業者定義相同，即凡在調查資料標準週內，年滿15歲且同時符合「無工作、想工作」、「正在找工作或已找工作正在等待結果」及「隨時可以開始工作」等3項條件，視為失業者。

(2)由以上敘述得知，只有選項(D)24歲的小玲符合上述失業人口的狀態，為本題正確答案。

25. C；第三世界國家是指經濟發展比較落後，在國際政治經濟關係中地位比較低的國家和地區。在地域上大多處於已開發國家的南邊。故第三世界國家也稱為發展中國家或南方國家。在這些國家大多勞力充足，工資低廉，且較無環保概念，因此吸引許多高科技產業國家遷廠至此，因為可以負擔較低人力薪

- 資支出，也不必負擔增添環保設備的支出，總體而言可以降低生產成本，又可擴張其企業版圖，進而增加利潤。由以上敘述得知，本題正確答案為選項(C)。
26. C；WTO (World Trade Organization, 世界貿易組織) 是現今最重要之國際貿易組織，總部位於瑞士日內瓦，目前共有超過150個成員國家。其基本理念在於創造一個自由、公平之國際貿易環境，協調會員以和平手段解決貿易糾紛。
- APEC (Asia-Pacific Economic Cooperation, 亞洲太平洋經濟合作會議)、OPEC (Organization of the Petroleum Exporting Countries, 石油輸出國組織) 均為區域性的經貿組織，而UN (United Nations, 聯合國) 並非以國際貿易為主。故選(C)WTO為正確。
27. B；而本題所問，台灣因金融海嘯，經濟衰退景氣低迷，根據以上表格提示得知，此時政府應採取擴張性的貨幣政策：①降低貼現率、降低存款準備率、與④買進公債以增進市面上現金的流通。題幹中發放消費券是屬於內政部主管的範疇，而非中央銀行，因此本題正確答案為選項(B)。
28. A；(A)比較利益：比較利益是決定於「機會成本」較低者，從事機會成本愈小的專業事務，愈符合比較利益原則。若每個人都能各自生產具有比較利益的產品時，在相同的工作時間中，能提高總產量。透過市場的交易，可以使人類的生活所需獲得滿足，可以享受到數量與種類更多的產品。故綜合以上所述，得知題幹中所引用亞當斯的話，其所表達的是分工合作的概念，也就是比較利益原則的原理，答案為選項(A)。
29. C；(C)機會成本：在任何時候，消費者通常會有一種以上的選擇機會，當選擇其中的一個，就必須放棄其他的會，這種放棄其他選擇會的成本就叫做機會成本。
- 而本題所問，立法委員所擔憂的營養午餐的經費排擠效果，即是同樣的錢若在某方面多花了，必然要再另一方面少花。強調的是有得必有失之『機會成本』的概念，答案為選項(C)。
30. A；就生產一單位鮮肉包的機會成本而言：
傑倫：3/4 (單位) 鮮肉包 < 志齡：4/5 (單位) 鮮肉包 → 傑倫應生產鮮肉包。
就生產一單位豆沙包的機會成本而言：
傑倫：4/3 (單位) 豆沙包 > 志齡：5/4 (單位) 豆沙包 → 志齡應生產豆沙包。
⑤綜合以上敘述得知，選項(A)的敘述正確，為本題答案。
選項(B)應修改為『以豆沙包而言，志齡每做一個的機會成本比傑倫低』。
選項(C)應修改為『做豆沙包，志齡具有比較利益』。
選項(D)應修改為『若依據比較利益原則分工，傑倫應該專業做鮮肉包』。
31. B；(1)根據大法官會議釋字第485號規定：憲法第七條平等原則並非指絕對、機械之形式上平等，而係保障人民在法律上地位之實質平等，立法機關基於憲法之價值體系及立法目的，自得斟酌規範事物性質之差異而為合理之區別對待。
- (2)由上開法條內文的闡述得知，平等可分為：
實質性的平等 → 個人自發性的平等對待他人的態度，強調立足點的真平等。
形式上的平等 → 受外部強制性的平等對待他人的方法。
- (3)而本題選項(B)考試時延長視障生作答時間，即對弱勢族群的保障，最符合平等的意義。
32. D；文化創新：各地的文化原是一成不變的，但是在不斷與外來文化接觸時，會受到影響。而當原本的文化吸收外來文化的同時，也會對自己的文化作調整，因而創造出新的文化。本題所問，明華園歌仔戲其表演風格已由早期的歌謠轉變為現代的劇場形式，此乃文化創新的表現，答案為選項(D)。
33. C；亞伯拉罕·馬斯洛 (Abraham. H. Maslow) 是美國的人本主義心理學家，其以需求層次理論 (Need-hierarchy theory) 最為人所熟悉。馬斯洛將人類的需求分成生理需求、安全需求、社交需求、尊重需求和自我實現需求五類，依次由較低層次到較高層次，較低的層次需求必須先被滿足後，才會進入較高的層次。
- 而本題題幹所問，馬拉松選手林義傑不斷接受挑戰、發會自我潛能的精神，主要是滿足了馬斯洛需求理論中自我實現層次的需求，答案為選項(C)。

34. D：(1)由於交通、資訊與跨國組織的出現，使得國際間在政治、經濟與文化方面的互動愈來愈頻繁，人與人、國與國之間的距離縮短，人類的生活因全球化彼此間變的更密切。也因此當世界某個地區發生變動，可能會影響到另一區人民的生活，甚至對全世界產生影響，可以說是牽一髮而動全身。
- (2)而全球化的影響如下：糧食與人口問題、人權問題、宗教與種族問題、疾病與衛生問題、國際性犯罪增加問題、環境問題、貧富差距擴大、既有文化價值的崩壞
- 綜合以上所述，本題題幹所問全球化所造成的影響包含了②文化交流機會變多、③強勢文化傳播威脅弱勢族群的生存、④企業遷移到成本低的地區，造成遷出地區關廠失業，答案為選項(D)。
35. B：(1)每一個社會都是由不同的族群、宗教、階層、性別何地域的人所組成，通常會呈現各種不同的生活方式、風俗習慣和價值觀念，進而形成一個多元的社會。
- (2)多元社會的特徵：開放性、自發性民間社團崛起、文化的差異性、價值多元化、公開化及普及化。
- 由以上敘述得知，
- (A)錯誤：雖然漢人的文化是主流文化，但彼此間要相互交流尊重，而原住民的文化更要予以保存。
- (B)正確：推行母語教學，學習尊重不同族群的語言與文化，即落實了多元文化的真義。
- (C)錯誤：不同族群的生活聚落應彼此互相融合、開放並相互觀摩學習，以促進文化間的交流。
- (D)錯誤：各族群團體間應又具有多元社會的觀念，而政府不但不應以強制的手段干預不同種族間的通婚相反的更應該鼓勵彼此的融合，進而使多元文化更加發揚光大。

100年公務人員初等考試試題

等別：初等考試

類科：社會行政、人事行政、勞工行政、教育行政、財稅行政、金融保險、統計、會計、經建行政、地政、圖書資訊管理、政風、電子工程

1. () 小傑育有三女，太太過世後，經友人介紹與小琳結婚，小琳有一個未婚生下的女兒，也帶過來一起生活。此時小傑的家庭是屬於何種家庭型態？
(A)單親家庭 (B)頂客家庭 (C)隔代家庭 (D)重組家庭
2. () 依據我國相關法律的規定，下列何種職務「不須」經由國家考試取得？
(A)警察 (B)法官 (C)大法官 (D)關稅人員
3. () 在釣魚的張三、李四兩人同時遭大浪打落海中，張三與李四爭奪唯一的救生圈，導致李四因而溺斃，請問張三的行為，依《刑法》「阻卻違法」事由之那一項，不會構成殺人罪？
(A)依法令的行為 (B)業務上的正當行為 (C)正當防衛 (D)緊急避難
4. () 如茹將網路上介紹美食的資料及圖片下載印出，繳交家政課作業，並且把它放到個人部落格上，供網友點閱。這種作法最主要侵犯了他人那種權利？ (A)隱私權 (B)人格權 (C)智慧財產權 (D)人身自由權
5. () 民國88年發生921大地震後，為了有效展開救災工作，依法由總統發布緊急命令，為必要之處置。但須於發布緊急命令後十日內提交下列那一機關追認？ (A)行政院 (B)立法院 (C)司法院 (D)監察院
6. () 根據中華民國憲法增修條文規定，總統、副總統罷免案應由下列那一機關提出？ (A)大法官 (B)行政院 (C)立法院 (D)監察院
7. () 某位藝人因遭八卦雜誌影射有婚外情，憤而到臺北地方法院檢察署按鈴申告，請問「按鈴申告」是那一種權利救濟的方式？
(A)告訴 (B)告發 (C)自訴 (D)公訴
8. () 《民法》第982條於民國96年5月23日修正公布，並於民國97年5月23日起施行。經修正後的結婚形式要件包含下列那幾項？
①公開儀式 ②兩人以上證人 ③書面形式 ④戶政機關登記
(A)①② (B)①②④ (C)②③④ (D)①②③④

9. () 根據中華民國憲法增修條文的規定，下列何者為我國修憲的程序？
(A)立法院提出憲法修正案，由總統公布
(B)立法院提出憲法修正案，公民投票通過
(C)立法院提出憲法修正案，由任務型國代通過
(D)立法院提出憲法修正案，由行政院院會通過
10. () 老王因細故與小李發生爭執，進而對小李動手，造成小李左肩瘀青腫痛。事後老王請里長陪同向小李道歉，並約定由老王負擔醫藥費，而小李則放棄對老王提起刑事訴訟。依上述內容判斷，雙方的約定在法律上稱為什麼？ (A)調解 (B)仲裁 (C)和解 (D)訴願
11. () 某地方政府，針對公共設施用地「B土地」實施徵收，並且對當地居民承諾：會先妥為安置，再行拆遷房屋。然而該政府並未履行此一「先安置、後拆遷」之承諾，即動手拆屋。此作法有違下列那一項原則？
(A)比例原則 (B)明確原則 (C)平等原則 (D)誠信原則
12. () 依《民事訴訟法》第466條第3項之規定，目前財產權涉訟案件，當事人如不服第二審法院民事判決，而上訴所得受利益未超過新臺幣多少元，依法不得上訴第三審法院？
(A)50萬元 (B)100萬元 (C)150萬元 (D)200萬元
13. () 倩倩開了一家美妝店，遭顧客上門投訴她賣的洗面乳因包裝受損，洗後臉上長出紅疹，但倩倩以店外張貼「貨物出門，概不退換」之告示，拒絕退、換貨或賠償。請問，倩倩這種作法違反了《民法》那一項原則？
(A)私法自治原則 (B)契約自由原則
(C)誠實信用原則 (D)權利禁止濫用原則
14. () 根據中華民國憲法規定：「法律與憲法牴觸者無效」、「命令與憲法或法律牴觸者無效」。這是顯示《憲法》的何種特性？
(A)最高性 (B)原則性 (C)穩定性 (D)固定性
15. () 中華民國憲法增修條文第5條規定，政黨之目的或其行為，危害中華民國之存在或自由民主之憲政秩序者為違憲。而政黨違憲之解散事項，應交由下列何者審理之？
(A)行政院 (B)憲法法庭 (C)大法官會議 (D)公務員懲戒委員會

16. () 依據三權分立的原則，中央政府的行政機關應如何行政，以符合民主憲政的精神？
(A)依執政黨的黨綱行政 (B)依民意調查的結果行政
(C)依執政黨黨揆的意志行政 (D)依國會通過的法律行政
17. () 在政見發表會中，某政黨的候選人不斷提醒臺下的觀眾投票當天一定要記得帶身分證去投票，而且不能用自己的私章蓋在選票上。由此可知政黨也會提供以下何種功能？
(A)匯集民意 (B)提名候選人 (C)教育民眾 (D)組織政府
18. () 關於我國法律適用的優先順序原則，下列那幾項是正確的？
①公法優於私法 ②實體法優於程序法 ③特別法優於普通法 ④條例優於自治法規
(A)①② (B)①③ (C)②④ (D)③④
19. () 立法委員的組成有許多種類，包括 ①區域立委 ②不分區立委 ③原住民立委 ④僑選立委，其中採政黨比例方式選出的立委，為那兩類立委？
(A)②③ (B)②④ (C)①② (D)③④
20. () 有些威權國家因擔心國外政治社會動亂的新聞影響到國內的政治安定，而對此類新聞報導內容進行審查，此項措施明顯違反下列那種國家存在的目的？
(A)維護國家安全 (B)維持社會秩序 (C)落實社會正義 (D)保障人民權利
21. () 下列那一國的元首是透過選舉產生的？
(A)日本 (B)英國 (C)南非 (D)澳洲
22. () 內政部研擬修改社會救助法，修正重點包括：調整貧窮線定義、納入近貧家庭、增訂低收入戶通報機制等，可說是積極實現那一項國家組成的目的？
(A)安全 (B)福利 (C)自由 (D)秩序
23. () 某學者謂：「政府的權威只能建立在被統治者信賴的基礎之上，所以政府的統治權力必須透過被統治者的同意才能存在，而選舉活動正是賦予政府正當性與合法性的重要程序。」上述這段話最能反映下列何項概念？
(A)三權分立 (B)人民主權 (C)政黨政治 (D)依法行政

24. () 香雞排太香、臭豆腐夠臭，讓不少饕客趨之若鶩；然而業者所製造的油煙味，影響空氣品質，也成為環保人員稽查的標的。政府應如何將其「外部效果內部化」？
- (A) 補貼業者，降低生產成本 (B) 勒令停工，併入公營事業
(C) 徵收汙染稅，罰款限期改善 (D) 放寬汙染標準，鼓勵產品出口

25. () 立法院正在著手修定《菸害防制法》，其中有立委建議應對邊走邊抽菸者開罰，引起不少癮君子抗議。此種透過立法取締抽菸的動作是屬於政府的那一項功能？
- (A) 提供公共財 (B) 處理外部效果 (C) 維持公平交易 (D) 改善所得分配

26. () 在國際貿易過程中，買賣雙方都會準備國際上普遍接受的貨幣來進行交易；目前在國際上最普遍接受的貨幣為何？
- (A) 歐元 (B) 美元 (C) 日幣 (D) 人民幣

27. () 下表為某個市場上週對雞肉之需求和供給的價格和數量，以下何者為此一市場的均衡價格 (P) 和均衡數量 (Q) ？

價格 (元/斤)	需求 (斤/週)	供給 (斤/週)
90	50	70
80	60	60
60	80	40

- (A) $P=60, Q=40$ (B) $P=80, Q=60$
(C) $P=90, Q=70$ (D) $P=90, Q=50$
28. () 工廠製造的廢水、空氣汙染、噪音等問題，如果沒有妥善處理，將影響並降低附近住戶的生活品質，這是符合經濟學上的那一種概念？
- (A) 外部成本 (B) 外部效益 (C) 負擔能力原則 (D) 比較利益原則
29. () 依照馬斯洛 (A. Maslow) 早期的人類需求階層理論，人的重要需求依順序共有五個階層。依其理論，在安全的需求被滿足之後，人們會進一層產生何種需求？
- (A) 生理的需求 (B) 受尊重的需求
(C) 自我實現的需求 (D) 愛與歸屬感的需求
30. () 俗話說：「天下沒有白吃的午餐」，這表示任何一種經濟行為都必須支付代價。這是經濟學上的那一種概念？
- (A) 外部效果 (B) 機會成本 (C) 欲望無窮 (D) 能力負擔

31. () 經濟學者凱因斯主張以政府的力量解決經濟及社會問題，其所持的最主要理由是什麼？
 (A)市場經濟會製造社會問題 (B)市場經濟會危害國家安全
 (C)市場經濟可縮小貧富差距 (D)市場經濟有時無經濟效率
32. () 曉明、筱梅是鄰居，她們都在MM服飾工廠上班，下表呈現兩人生產衣服及襪子的機會成本；則MM廠的老闆應該如何分配她們工作，產量組合才會最理想？

機會成本比較表		
	曉明	筱梅
衣服	0.5雙襪子	2雙襪子
襪子	2件衣服	0.5件衣服

- (A)曉明專門做衣服，筱梅專門做襪子
 (B)曉明專門做襪子，筱梅專門做衣服
 (C)曉明做衣服、襪子各半個月，筱梅專門做襪子
 (D)曉明專門做衣服，筱梅做襪子、衣服各半個月
33. () 有關債券的敘述，下列何者正確？
 (A)公債是由公司發行的債券 (B)公債的風險通常大於公司債
 (C)大公司的倒債風險小於政府 (D)公債報酬率通常小於公司債
34. () 相較於其它經濟制度，下列何者是市場經濟制度下可能產生的現象？
 (A)容易產生貧富差距擴大
 (B)較不會產生資本家剝削勞動階級
 (C)容易導致生產資源的浪費及生產效率不彰
 (D)較不會有資源分配不均的問題
35. () 如果讓每個人都去做對自己最有利的買賣，則「有一隻看不見的手」，促使資源做最有效率的分配與運用。此「看不見的手」是指什麼？
 (A)政府 (B)企業 (C)消費者 (D)市場機能

解答與提示

1. D；繼親家庭＝混合家庭，即為夫妻離婚後各自帶著前次婚姻所生下的子女在結婚的家庭。
 2. C；依中華民國憲法增修條文第5條：「司法院設大法官十五人，並以其中一人為院長、一人為副院長，由總統提名，經立法院同意任命之……。」故我國大法官乃是由總統提名，經立法院同意後任命產生，不需經過國家考試。

3. D；緊急避難（刑法第24條）：因避免自己或他人生命、身體、自由、財產之緊急危難，而出於不得已之行為，不罰。例如：為逃離火災現場而毀損隔壁鄰居的牆壁而逃入鄰宅。
4. C；網路上流通的照片、圖片、資料、音樂、程式…等亦接受著作權的保護。未經著作權人的同意任意張貼或轉載他人著作供人閱覽下載，違反著作權法，即侵犯了他人的智慧財產權，本題答案為選項(C)。
5. B；依憲法增修條文第二條第三項規定：「總統為避免國家或人民遭遇緊急危難或應付財政經濟上重大變故，得經行政院會議之決議發布緊急命令，為必要之處置，不受憲法第四十三條之限制。但須於發布命令後十日內提交立法院追認，如立法院不同意時，該緊急命令立即失效。」。
由上開條文敘述得知，本題正確答案為(B)。
6. C；依憲法增修條文第二條第九項規定：「總統、副總統之罷免案，須經全體立法委員四分之一之提議，全體立法委員三分之二之同意後提出，並經中華民國自由地區選舉人總額過半數之投票，有效票過半數同意罷免時，即為通過。」。
由上開條文敘述得知，本題正確答案為(C)。
7. A；本題中的救濟方式上即是告訴：由被害人向檢舉單位控訴罪犯的行為。
8. C；根據《民法》第982條：『結婚應以書面為之，有二人以上證人之簽名，並應由雙方當事人向戶政機關為結婚之登記。』，故應選②兩人以上證人③書面形式④戶政機關登記，答案為選項(C)。
9. B；依中華民國憲法增修條文第12條規定：憲法之修改，須經立法院立法委員四分之一之提議，四分之三之出席，及出席委員四分之三之決議，提出憲法修正案，並於公告半年後，經中華民國自由地區選舉人投票複決，有效同意票過選舉人總額之半數，即通過之，不適用憲法第一百七十四條之規定。
10. C；老王對小李動手，而造成小李受傷，但後來協同里長與小李達成協議，道歉並賠償其醫藥費，而小李則放棄提起對老王的刑事訴訟，此乃屬於當事人雙方相互溝通後所達成的協議，屬於民法上（訴訟外）的和解，答案為選項(C)。
11. D；民法第148條第2項規定「行使權利，履行義務，應依誠實及信用方法」，其適用於任何權利行使及義務之履行，故如有未盡事宜，悉依誠實信用原則處理。
政府為徵收土地而做出先後拆遷安置的承諾，但最後卻並未履行，違反法律上的誠信原則，答案為選項(D)。
12. C；依《民事訴訟法》第466條，原則上賠償金額在新台幣100萬元以下的民事訴訟，只能上訴到高等法院。但司法院得因情勢需要以命令減至新台幣50萬元或增至150萬元。由此可推得知，上訴所得受利益未超過新臺幣150萬元者，依法不得上訴第三審法院，答案為選項(C)。
13. C；誠實信用原則：乃民法之『帝王條款』，為公平正義理念之具體化，見民法第148條第2項規定「行使權利，履行義務，應依誠實及信用方法」，其適用於任何權利行使及義務之履行，故如有未盡事宜，悉依誠實信用原則處理。
商家拒絕對其賣出有瑕疵的產品退、換貨或賠償，違反法律上的誠信原則，答案為(C)。
14. A；憲法的效力最高，任何法律與命令抵觸者無效，顯示憲法最高性的特質，答案為(A)。
15. B；依《中華民國憲法增修條文》第5條規定：『司法院大法官，除依憲法第七十八條之規定外，並組成憲法法庭審理總統、副總統之彈劾及政黨違憲之解散事項。』。
16. D；三權分立，即為行政、司法、立法三大政府機構共同存在，地位平等且互相制衡的政治制度。三權分立下中央政府的行政機關乃是『依法行政』，而這裡的『法』乃係指國會通過的法律，故正確答案為(D)。
17. C；政黨的候選人提醒民眾投票規定，此乃是政治社會化功能中，對民眾進行政治教育行為的一種，故本題正確答案為(C)。
18. D；①公法優於私法敘述有誤，兩者位階相同，如行法是屬於公法而民法是屬於司法，兩者並無高低順位之分。
②實體法優於程序法敘述有誤，實體法與程序法相輔相成，並無高低位階之別。

- ③ 特別法優於普通法，敘述正確。
- ④ 條例優於自治法規，條例屬於法律，自治法規屬於命令，法律的位階高於命令，所以條例優於自治法估，敘述正確。
19. B；依憲法增修條文第4條：立法院立法委員全國不分區及僑居國外國民共三十四人。依政黨名單投票選舉之，由獲得百分之五以上政黨選舉票之政黨依得票比率選出之，各政黨當選名單中，婦女不得低於二分之一。故正確答案為(B)。
20. D；在民主國家言論自由乃屬於人民的權利，國家應保護之，例如我國憲法即明定：人民有言論、講學、著作及出版之自由。而威權國家對新聞內容進行審查此乃是侵犯了人民言論自由的權利，等同是國家未盡到保障人民權利的功能，答案為(D)。
21. C；目前國家元首是由世襲君主所擔任的君主國體，有：英國、日本、挪威、瑞典、荷蘭、西班牙、澳洲。只有(C)南非的元首是由選舉產生。
22. B；近代國家須以提高國民的福利為目的，尤其是在福利國家思想盛行的今日，國家的福利目的乃愈來愈被重視。內政部研修社會救助法等濟貧政策，即是符合了國家提高國民福利的目的，答案為(B)。
23. B；人民主權：主權是不受任何外力干涉、支配，充分擁有當家做主、全權決定自己內部事務的權利，是一個國家的最高權力。政府（行政）部門權力、司法管轄權及立法權的行使需要主權為依據。在民主制度裡，主權屬於國家的全體人民，這被稱為人民主權（Popular sovereignty）。即洛克（Locke）之謂，政府必須建立在被統治者的同意下。
24. C；餐飲業者所製造的油煙味影響空氣品質，此乃屬於外部不經濟的行為，政府採取外部效果內部化的手段，應是對製造油煙的業者徵收污染稅，罰款並限期改善，使其自行負擔其行為的後果，故本題答案為(C)。
25. B；外部效果：是指某些經濟活動能影響他人福利，而這種影響卻不能透過市價來買賣。如外部成本，又稱外部不經濟，是一種不好的外部效果，因為一方的行為使另一方蒙受其害，應減少或消除。立法院修定《菸害防制法》是政府為人民所提供之處理外部效果之經濟服務。故本題正確答案為(B)。
26. B；目前國際貿易過程中，美元是最被使用廣泛，也是最重要、被大多數國家所接受的國際貨幣，故本題正確答案為(B)。
27. B；需求＝供給時，即會得到一個均衡價格與均衡數量，本題中此點落在需求＝60、供給＝60時，即得到均衡數量（Q）＝60，而得到均衡價格（P）＝80元，故本題正確答案為選項(B)。
28. A；外部成本：又稱外部不經濟，是一種不好的外部效果，因為一方的行為使另一方蒙受其害，是一種利己損人的行為，應減少或消除。例如：汽車排放廢氣，使得路上行人吸入有毒的廢氣，或工廠製造廢水、空氣汙染、噪音等問題。
29. D；馬斯洛將人類的需求分成生理需求、安全需求、社交（愛與歸屬感）需求、受尊重需求和自我實現需求五類，依次由較低層次到較高層次，較低的層次需求必須先被滿足後，才會進入較高的層次。
30. B；資源有限，所以必須做選擇，做了選擇就會有「得」與「失」，此「失」就是「得」的最高成本。簡言之，機會成本就是做選擇時所放棄其他用途中價值最高者，包括：做選擇時因此多付與因此少賺的。天下沒有白吃的午餐，即是在說明做任何事都必須付出代價的觀念，此即符合機會成本的概念，本題正確答案為選項(B)。
31. D；凱因斯認為『需求減少』是造成經濟衰退的主因。『經濟大蕭條』造成通貨膨脹及經濟崩潰，減少消費造成需求不足，失業率大增，這也是市場經濟無效率所帶來的結果。凱因斯認為：民間商品需求不振時，政府必須扛起提振需求的重擔，通過政府決策來刺激消費、增加投資，實現充分就業。故本題正確答案為(D)。
32. A；① 生產一單位衣服的機會成本：曉明： $2/0.5=4$ （單位衣服） $>$ 筱梅： $0.5/2=0.25$ （單位衣服），故曉明生產衣服具有比較利益。
- ② 生產一單位襪子的機會成本：曉明： $0.5/2=0.25$ （單位衣服） $<$ 筱梅： $2/0.5=4$ （單位襪子），故筱梅生產襪子具有比較利益。
- 可知，曉明應專門做衣服，而筱梅應專門做襪子，本題正確答案為選項(A)。

33. D；(A)公債是由政府所發行的債券，(B)、(C)公債由於是由政府所發行，因此風險通常又小於公司債。
34. A；市場經濟是以私有財產和經濟自由為基礎的經濟體系，產品和服務的生產及銷售完全由自由市場的價格機制所引導，以追求最大的利潤。由於鼓勵自由競爭，廠商本身會減少浪費以追求利潤，但也因此容易造成貧富差距愈來愈大、資源分佈不均與剝削勞工利益以增進資本家本身利益的問題。
35. D；「一隻看不見的手」(an invisible hand)即為市場機制、價格機能，為現代經濟學之父亞當史密斯所描述的市場神秘力量。

100年佐級鐵路人員考試試題

等別：佐級

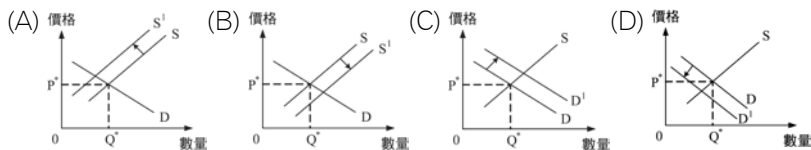
類科：各類科

1. () 有一本書上說：「每一個人都是他自己經濟事務的最佳裁判者，自由競爭和致富的慾望可以導致社會整體財富的增加。儘管每個人都是自私的、而且常常不顧及共同的利益，但是他們的共同活動，卻自然地趨於全體的共同經濟福祉。這種情況，就如同有一隻看不見的手在調節一切一樣。」文中所謂「一隻看不見的手」，指的是什麼？
(A)市場的自然運作 (B)社會的預期心理
(C)資本家的幕後操控 (D)政府無所不在的影響力
2. () 共同基金是理財方式之一，它是將大眾的資金募集起來，交由專業經理人投資在不同投資標的上。根據上述，關於共同基金的推論下列那些是正確的？
①就同一股票市場而言，投資共同基金比投資單一股票的風險低
②共同基金因為是由專業經理人管理，因此可以規避循環性風險
③共同基金是「不要把所有的雞蛋放在同一個籃子裡」理念的展現
④因投資共同基金所需的資金較大，所以較不適合一般大眾投資
(A)①② (B)①③ (C)②④ (D)③④
3. () 依據現行中華民國憲法增修條文規定，立法院對於總統可以提出彈劾案與罷免案，但兩案還須經由何種程序才能迫使總統下台？
(A)彈劾必須再經由司法院憲法法庭之審理
(B)罷免必須再經由任務型國民大會之決議
(C)兩者皆須再經由全國公民複決投票通過
(D)兩者皆須再經由司法院大法官會議審理
4. () 為解決全球暖化之問題，波爾國政府決定設立「碳交易」市場，以減少企業的二氧化碳排放量。碳交易市場的設置，是透過經濟學上的那種方法，以提升社會的整體效益？
(A)增加政府污染防制的公共支出 (B)降低企業稅率以提高企業獲利
(C)將生產的外部性納入成本考量 (D)強化企業節能減碳的道德認知

5. () 大陸曾驚爆毒奶粉事件，含有三聚氰胺的毒奶粉大量銷售到鄰近國家，我國有多家廠商誤購毒奶粉，製成各種產品販售。從經濟學的角度來看，廠商誤購毒奶粉事件，是屬於何種市場失靈原因所導致？
 (A)市場不開放 (B)資訊不對稱 (C)財產權不完整 (D)交易成本過高
6. () 本國某銀行銷售一種以美元計價的金融商品，保證一年後可得5%的利息以及取回美元計價之本金。假設目前1美元可兌換30元新臺幣，一年後則為1美元可兌換33元新臺幣。若現在阿霞以30萬元新臺幣購買該項金融商品，並於一年後將本金及利息兌換回新臺幣，其投資報酬率約略為何？
 (A)可獲利5% (B)會損失5% (C)會損失15% (D)可獲利15%
7. () 世界各國由於其經濟條件的差異，生產的產品也有所不同，彼此之間透過國際貿易的方式，取得自己沒有生產的物品，這就是「國際分工」。請問國際分工最主要是基於下列那一項原則來進行的？
 (A)生產效率 (B)機會成本 (C)比較利益 (D)絕對利益
8. () 下表為披薩市場之價格與供給量、需求量之對應表，若依據此表該市場的均衡價格為多少？

價格	需求數量	供給數量
90	135	26
100	104	53
110	81	81
120	68	98
130	53	110
140	39	121

- (A)100 (B)110 (C)120 (D)130
9. () 商品的生產過程中，常會產生汙染水、空氣等情形，在其他條件不變的狀況下，若政府要求廠商必須自行處理這些汙染，供給需求的圖形，最可能會產生下列何種變化？



10. () 若技術進步表示用相同的資源可生產更多的產品，或者是運用較少的資源，來生產相同數量的產品。當臺灣引進先進的草莓栽種方法與設備，以提升農民種植技術與產量，若其他條件不變的情況下，栽種成功之後在短期內會造成草莓市場上的供給價格及數量分別如何變動？
(A)下跌、減少 (B)下跌、增加 (C)上漲、減少 (D)上漲、增加
11. () 口蹄疫發生時，購買豬肉的人減少，而轉去購買牛肉，代表豬肉和牛肉之間的關係為： (A)自由財 (B)季芬財 (C)互補品 (D)替代品
12. () 我國民法近年來經歷多次修正，下列那項是修改之重點？
(A)為保護遺產繼承人權益，強制採用「限定繼承」
(B)結婚成立要件已由「登記婚」改為「儀式婚」
(C)未成年子女得自由變更為從父姓或從母姓
(D)妻婚前名下之不動產即為妻所有，但婚後妻子購買的不動產則為夫妻共同財產
13. () 依據我國家庭暴力防治法的規定，被害人要向那一個單位聲請保護令？
(A)警察機關 (B)社工單位 (C)地方法院 (D)縣市政府
14. () 檢察官在刑事訴訟法中的職權與角色，下列敘述何者正確？
(A)核發監聽票、搜索票指揮警察辦案
(B)為社會正義雖無人提告亦可主動偵查
(C)對被告依偵查結果可決定予以假釋或緩刑
(D)擔任自訴與公訴的原告角色負有舉證的責任
15. () 為維護人性尊嚴，保障基本人權，我國已於97年10月1日開辦國民年金保險，請問這項政策最能體現下列那一項憲法保障的基本人權？
(A)平等權 (B)自由權 (C)社會權 (D)參政權
16. () 15歲就讀高中的小威，為了幫助父母改善家庭經濟而休學，到一家電子零件工廠去上班。依勞動基準法規定，小威在該工廠的下列何項工作行為是不合法的？
(A)假日到工廠加班 (B)每日工作8小時
(C)從事電子零件的包裝工作 (D)中午12時工作到下午8時
17. () 小李偷了老王的自行車，雖然沒被人發現，但事後覺得良心不安，主動向警察局報告此事，並交出該輛自行車，小李到警察局去報告與交出該車的行為，在法律上稱為何種程序？ (A)自訴 (B)自首 (C)告訴 (D)投案

18. () 為了避免能源浪費並減少廢氣排放，行政院環境保護署規定汽機車暫停超過3分鐘以上，駕駛者必須熄火，否則將被處以罰鍰，此規定屬於：
(A)法規命令 (B)行政規則 (C)行政處分 (D)行政執行
19. () 人民若認為行政機關的行政處分違法或不當，侵害人民權利時，可經由原處分機關向管轄機關提出權利救濟，這是憲法所保障人民的何項權利？
(A)請願 (B)訴願 (C)訴訟 (D)仲裁
20. () 民法第14條第1項規定，對於因精神障礙或其他心智缺陷，致不能為意思表示或受意思表示，或不能辨識其意思表示之效果者，法院得因相關人士或有關機關之聲請，為監護之宣告。有關受監護宣告者所為的法律行為，下列何者具有法律效力？
(A)單純獲得利益的行為 (B)日常生活所必需的行為
(C)事先得到監護人允許的行為 (D)所有法律行為均須由監護人代為行使
21. () 19歲就讀大學的大明和16歲就讀高中的女友小芳交往，半年後因兩情相悅進而發生性交的行為。依上述內容判斷，下列何項敘述正確？
(A)雙方均不成立犯罪
(B)大明成立加重強制性交罪
(C)大明成立對未成年人為性交罪
(D)由當地性侵害防治中心認定是否成立性侵害犯罪
22. () 若依據我國人民團體法及相關法規，小花欲擔任發起人召集大學同好，向政府申請人民最大黨之組成，下列程序何者符合該法之規定？
(A)向中央主管機關內政部備案 (B)主張的內容中不得記載共產主義
(C)團體類別應清楚標示為社會團體 (D)擔任發起人的小花必須年滿23歲
23. () 政府為了落實社會正義的理念，規劃許多社會福利政策，下列那些作法符合我國社會福利政策之內涵？
①警察開單取締未戴安全帽機車騎士
②行政院青年輔導委員會提供青年創業貸款
③全國不分區立委保障婦女當選名額
④縣市政府簽約提供家暴受害者住宿
(A)①③ (B)①④ (C)②③ (D)②④

24. () 我國公民投票法第1條揭示，依據憲法主權在民之原則，並確保國民直接民權之行使，特制定本法。下列國民中，何者可以行使這項權利？
(A)受監護宣告尚未撤銷的苗苗 (B)在選舉區居住滿4個月的阿草
(C)被褫奪公權尚未復權的大樹 (D)年滿18歲的大一新鮮人小花
25. () 依據中華民國憲法增修條文第9條規定，我國地方政府中省政府委員與省諮議會議員的產生方式，與下列那一類公務員相同？
(A)副總統 (B)教育部部長 (C)行政院院長 (D)司法院大法官
26. () 入出國及移民法規定：「外國人、臺灣地區無戶籍國民、大陸地區人民、香港及澳門居民於入國（境）接受證照查驗或申請居留、永久居留時，入出國及移民署得運用生物特徵辨識科技，蒐集個人識別資料後錄存。」此一條文一直存在正反對立的意見，贊成者認為此舉可以有效防堵犯罪及恐怖主義，是維護國家安全的必要措施。反對者認為指紋等生物特徵屬於個人敏感性資訊，其自主性應受到保障。請問上述兩種正反不同的意見，呈現了什麼衝突？
(A)自由權的保障與依法行政 (B)公共利益保障與個人隱私
(C)社會權的保障與正當程序 (D)弱勢保障與居住遷徙自由
27. () 承第26題，反對民眾可透過何種方式，促使該規定喪失法律效力？
(A)透過示威遊行、靜坐抗議等方式製造社會壓力，並罷免支持該法案的立法委員
(B)參與社會運動向移民署施壓，請移民署官員基於保障人權拒絕執行該法律
(C)以超過公民人數百分之三的連署，向立法院提出法律修正案廢止該規定
(D)請願促使行政院以適用法律有牴觸憲法疑義為由，提請大法官宣告違憲
28. () 2009年立法院通過菸害防制法修正案，將菸品健康福利捐大幅提高，使得香菸售價提高，藉由以價制量，減少民眾吸菸誘因，促進國民健康。請問：菸品健康福利捐屬於政府那一類的收入？
(A)規費 (B)罰款 (C)租稅 (D)財產收入
29. () 依據我國公民投票法的規定，關於公民投票案的提出方式，下列敘述何者正確？
(A)國防部可針對攸關國家安全事項交付全國性公投
(B)立法院將重大政策之創制或複決交付全國性公投
(C)司法院大法官可以將憲法修正案交付全國性公投
(D)澎湖縣可針對是否設置博奕專區提出地方性公投

30. () 依據我國憲政慣例，下列何者的產生方式是由行政院院長提請總統任命？
(A)檢察總長 (B)新聞局局長 (C)銓敘部部長 (D)國家安全局局長
31. () 小美比較美國、法國、英國以及我國的政府官員之後，發現下列那一位行政官員可以同時兼任國會議員？
(A)美國國務卿 (B)法國財政部長 (C)英國外交大臣 (D)我國經濟部部長
32. () 中央選舉委員會在2009年縣市長選舉中創舉，準備小塑膠袋，讓領完選票的選舉人，先把私章裝入塑膠袋，避免誤用私章在選票圈選候選人，此舉的目的，希望達成民主國家的那一項選舉原則？
(A)普通 (B)平等 (C)直接 (D)無記名
33. () 我國國民任小虎剛滿30歲，對政治一直有自己獨到的見解，因而想參選公職人員以一展抱負。依據公職人員選舉罷免法規定，他可以擔任行政機關中何種公職人員之候選人？
(A)立法委員 (B)直轄市市長 (C)總統、副總統 (D)縣(市)議員
34. () 2008年四川大地震中，有許多NGO投入救災，發揮了極大的成效；然而對於大多數的四川居民而言，NGO是一個陌生的名詞。如果要向災民介紹NGO，下列那些較恰當？①是「非政府組織」的英文縮寫 ②WTO就屬於這一種組織 ③具有非營利的性質 ④通常被歸類為第一部門
(A)①② (B)①③ (C)②③ (D)②④
35. () 依據我國民法的規定，下列那一個人具有「完全行為能力」？
(A)5歲正就讀幼稚園的小花 (B)15歲就讀高一的阿信
(C)27歲受監護宣告的阿珠 (D)19歲已經結婚的小凱

解答與提示

1. A；資本主義經濟制度本著自由主義的精神，強調由「一隻看不見的手」來主導經濟活動，所謂「一隻看不見的手」，指的是(A)市場的自然運作。
2. B；②應更為：共同基金因為是由專業經理人管理，但仍無法完全規避循環性風險。
④應更為：因投資共同基金所需的資金大小較無現制，所以較適合一般大眾投資。
3. A；總統可以提出彈劾案與罷免案，其中：
(1)彈劾案必須再經由司法院憲法法庭之審理。
(2)罷免案必須再經由全國公民複決投票通過。
本題應選(A)。
4. C；碳交易市場的設置，是透過經濟學上的(C)將生產的外部性納入成本考量，提高企業之生產成本，以促進節能減碳提升社會的整體效益之方法。
5. B；從經濟學的角度來看，廠商誤購毒奶粉事件，是屬於(B)資訊不對稱（廠商「誤購」毒奶粉）之原因所導致。

6. D ; 目前本金30萬元新臺幣可兌換1萬美元 ;
 一年後可得5%的利息加本金 = 1萬美元 × 1.05 ;
 一年後將本金及利息兌換回新臺幣 = 1萬美元 × 1.05 × 33 = 346500元 ;
 投資報酬率 = (346500 - 300000) ÷ 300000 = 約略為15%。
 本題應選(D)。
7. C ; 「比較利益」是指一國在各種產品的生產均不具有絕對利益，必須選擇機會成本最少的產品來生產，為今日國際貿易的理論基礎。國際分工最主要是基於(C)比較利益原則來進行的。
8. B ; 該市場的均衡價格為披?市場之供給量、需求量達到平衡 (81) 時之對應價格，本題應選(B)110。
9. A ; 在其他條件不變的狀況下，若政府要求廠商必須自行處理汙染，將使得廠商之成本增加，相同價格時，廠商願意供給之量下降，供給曲線會向左上方移動，供給需求的圖形，最可能會是(A)。
10. B ; 當農民種植草莓技術與產量皆提升，而其他條件不變的情況下，在短期內會造成草莓市場上的供給價格「下跌」及數量「增加」之變動。本題應選 (B)。
11. D ; 若其他財貨價格上升或購買需求下降，使得某商品的需求增加，我們稱之為「替代品」；反之使得某商品的需求下降，則稱之為「互補品」。本題應選 (D)。
12. A ; 近年來民法經歷多次修正，本題中(A)「限定繼承」之規定為修改之重點，而：
 (B)結婚成立要件由「儀式婚」改為「登記婚」。
 (C)未成年子女「不」得自由變更為從父姓或從母姓。
 (D)婚後妻子購買的不動產為妻之財產。
 本題應選 (A)。
13. C ; 依據我國家庭暴力防治法的規定，被害人要向(C)地方法院聲請保護令。
14. B ; (A)(C)為法官之職權；檢察官在刑事訴訟中。(D)擔任「公訴」的原告角色。
 本題應選(B)。
15. C ; 開辦國民年金保險，為憲法保障的基本人權中有關社會安全與福利之(C)社會權。
16. A ; 未滿16歲就讀高中的小威，依勞動基準法規定，「不得」於(A)假日到工廠加班。
17. B ; 犯罪人小李主動到警察局去報告與交出該車的行為，在法律上稱為(A)自首。
18. A ; 由行政院環境保護署規定，違者處以罰鍰之規定屬於由行政機關所制定，得對外拘束一般人民之(A)法規命令。
19. B ; 當政府機關之違法或不當處分，致人民之權利或利益受損時，人民得提起(B)訴願。
20. D ; 受監護宣告者須由監護人代為或代受意思表示，本題應選(D)所有法律行為均須由監護人代為行使。
21. A ; 本題中，雙方當事人皆已年滿16歲，因兩情相悅進而發生性交的行為，(A)雙方均不成立犯罪。
22. A ; (B)主張的內容中「得」記載共產主義。
 (C)團體類別應清楚標示為「政治」團體。
 (D)擔任發起人的小花必須年滿「20」歲。
23. D ; 本題中①③與「社會福利政策」無關。
24. C ; (A)受監護宣告尚未撤銷的苗苗「不得」行公民投票權。
 (B)在選舉區居住須滿「6個月」。
 (D)選舉人須年滿「20」歲。
25. B ; 行政院副院長、各部會首長、政務委員、臺灣省政府主席及委員、臺灣省諮議會議長及議員皆由行政院院長提請總統任命。本題應選(B)教育部部長。
26. B ; (B)贊成者--公共利益保障之考量；反對者--個人隱私之重視。本題應選(B)。
27. D ; 本題中，反對民眾應透過(D)請願促使行政院以適用法律有抵觸憲法疑義為由，提請大法官宣告違憲。
28. A ; 菸品健康福利捐屬於(A)規費，且係代收代付，並非財政收支劃分法中之國稅，本題考選部答案更正為(A)規費。

29. D ; (A)「總統」可針對攸關國家安全事項交付全國性公投。
(B)立法院將重大政策之創制或複決交付中選會辦理全國性公投。
(C)司法院大法官「不」可以將憲法修正案交付全國性公投。
本題考選部公告答(B)或(D)或(B)(D)均給分。
30. B ; (A)檢察總長：總統提名立法院同意後任命。
(B)新聞局局長：行政院院長提請總統任命。
(C)銓敘部部長、(D)國家安全局局長：各依相關任命程序辦理。
31. C ; 本題中，僅有內閣制之(C)英國外交大臣可以同時兼任國會議員。
32. D ; 避免選民誤用私章在選票上圈選候選人，此舉的目的，希望達成民主國家的(D)無記名（秘密投票）選舉原則。
33. B ; (A)立法委員：立法機關／滿23歲。
(B)直轄市市長：行政機關／滿30歲。
(C)總統、副總統：須年滿40歲。
(D)縣（市）議員：地方立法機關／滿23歲。
本題應選(B)直轄市市長。
34. B ; 非政府組織（英語：Non-Governmental Organization，縮寫NGO）是一個不屬於政府、不由國家建立的組織，通常獨立於政府。由於各國文化、法律等的差異，不同國家對這個概念的指稱所適用的對象範圍也各不相同。美國一般稱之為「非贏利組織」、「獨立組織」或「第三部門」（The Third Sector），英國稱之為「志願組織」（voluntary organization），還有許多國家則用「社團」稱之。至於WTO則屬於官方（政府）組織。本題應選(B)。
35. D ; (A)5歲正就讀幼稚園的小花：無行為能力。
(B)15歲就讀高一的阿信：不完全行為能力。
(C)27歲受監護宣告的阿珠：無行為能力。
(D)19歲已經結婚的小凱：完全行為能力。
本題應選(D)。

100年國安五等人員考試試題

等別：國安五等考試

類科：一般行政

1. () 由於衛生習慣的改善、醫學科技的進步，使國民的平均壽命延長，出現人口老化現象，近年來臺灣已邁向高齡化社會，依照聯合國世界衛生組織的定義，這表示臺灣65歲以上的老年人口至少必須占全國人口總數的多少百分比？ (A)6% (B)7% (C)8% (D)9%
2. () 下列何者不屬於鄉、鎮、市（區）公所調解委員會的調解範圍？
(A)妨害性自主 (B)妨害個人自由 (C)交通事故糾紛 (D)妨害個人名譽
3. () 有一句臺語俗諺「歹竹出好筍」，意義是「表現差的父親也會生出優秀的小孩」，這種父親與兒子之間職業的改變，屬於何種性質的社會流動？
(A)平行流動 (B)向下流動 (C)代內流動 (D)代間流動
4. () 維持人際關係的和諧並非難事，端看自己有無做到尊重與寬容的修養。以下那一種行為屬於「尊重」修養的實踐？
(A)新聞記者採訪災難事件，面對罹難者家屬詢問：「你有什麼感覺？會不會很難過？」
(B)媒體對於災難新聞的報導，著重賠償金額的多寡甚於懲前毖後的分析
(C)政治人物對於他人的批評能夠謹慎的檢討自己，以事實作理性的回應
(D)政治人物服從上級長官的指示，對政治對手勇於黨同伐異
5. () 下列何者不是公共財？ (A)無線電視 (B)國防 (C)知識 (D)教科書
6. () 經濟學提到：市場裡有隻「看不見的手」能夠將生產資源做最適當的調配；這隻手是指： (A)政府政策 (B)價格機能 (C)消費偏好 (D)生產成本
7. () 就經濟學觀點來分析，下列何種情況變動會引起社會對自用汽車的需求減少？
(A)汽油價格持續降低 (B)預期所得繼續增加
(C)捷運系統趨於完備 (D)汽車進口關稅降低
8. () 輸出愈多，國內的生產與就業機會就會增加，請問下列何者不是影響輸出的因素？
(A)進口國的所得水準 (B)本國的生產成本
(C)本國的生產技術 (D)進口國人民的年齡結構

9. () 春嬌透過郵購方式，劃撥了4500元購買冬天的棉被，結果產品送到時發現棉被色澤的深淺和目錄上有差異，於是立即向廠商請求退貨還款，但廠商卻以「非商品瑕疵」為由拒不退貨。此時春嬌可以採取那一種法律途徑，以保障自己的權益？
(A)行政訴訟 (B)民事訴訟 (C)刑事訴訟 (D)請願、訴願
10. () 經濟學上常用需求法則來說明消費者的消費行為，請問需求法則主要是解釋消費者需求量和那一項因素之間的關係？
(A)商品價格 (B)所得水準 (C)預期心理 (D)主觀偏好
11. () 菲菲是個優秀的銷售員，月薪15萬元，他在電視購物頻道為老闆張先生的寶石銷售業創下百萬業績。請問：「電視購物頻道」相當於經濟循環圖中的何者？ (A)要素市場 (B)商品市場 (C)消費者 (D)生產者
12. () 承上題，張先生在市場經濟中扮演下述的那些角色？
①要素市場需求者 ②要素市場供給者 ③商品市場需求者 ④商品市場供給者
(A)①③ (B)①④ (C)②③ (D)②④
13. () 經濟學中的「比較利益」法則，最適合用來說明下列那一種狀況？
(A)分工與貿易 (B)生產與消費 (C)投資與利潤 (D)報酬與風險
14. () 社會變遷，經濟環境隨之變動不定，小雄想繼續出國進修，但又考量到家庭收入可能短少，還有面臨將來回國後謀職的種種問題。請問小雄對於上述種種考量，最符合經濟學的那一種觀念？
(A)供給法則 (B)機會成本 (C)受益原則 (D)使用者付費原則
15. () 為了保護消費者的權益，郵購或訪問買賣的消費者，得於幾天內退回商品，無須說明理由或負擔任何費用？
(A)5天 (B)7天 (C)10天 (D)15天
16. () 下表中，列出林林公司員工每小時生產手球或籃球的數量。若以機會成本觀念來比較每位員工生產手球或籃球的數量，在不考慮其他條件的情況下，那一位員工生產「籃球」的相對成本較低？

產品	阿明	小花	永倫	阿秀
手球	6	6	3	12
籃球	3	13	6	5

- (A)阿秀 (B)阿明 (C)永倫 (D)小花

17. () 小茜平日總是省吃儉用，但購買鞋子時，卻情有獨鍾一定挑選某個知名品牌，即使定價不便宜，她也認為相當值得，不買則已，一買就是好幾雙，卻一點也不心疼。請問：上述現象，反映了小茜的購買需求，主要是受到何種因素的影響？
(A)所得水準 (B)個人偏好 (C)預期心理 (D)價格高低
18. () 下列那一項犯罪行為所侵害的是個人法益？
(A)賭博 (B)通姦 (C)吸食鴉片 (D)聚眾鬥毆
19. () 依我國刑法規定，受徒刑之執行完畢，或一部分之執行而赦免後，五年以內故意再次犯有期徒刑之罪者，稱之為何？
(A)累犯 (B)從犯 (C)牽連犯 (D)連續犯
20. () 所謂狹義的法律，是指由立法院三讀通過，並經下列何者公布？
(A)總統 (B)行政院院長 (C)立法院院長 (D)司法院院長
21. () 強調「個人自由以不侵犯他人之自由為範圍，才是真自由」，為下列何人之主張？ (A)盧梭 (B)孟德斯鳩 (C)彌勒氏 (D)沙德
22. () 阿山未經過小軒同意，即任意在網路上轉貼小軒發表過的文章，阿山此舉可能侵犯了小軒的下列那一項權利？
(A)著作權 (B)專利權 (C)商標權 (D)言論免責權
23. () 年滿18歲的小強最近因某項行為違反刑法規定而須負起刑事責任，下列何者最可能是小強的該項行為？
(A)無照駕駛汽車 (B)積欠債務不還 (C)穿戴仿冒服飾 (D)言語誹謗他人
24. () 當政府的行政處分違法或不當，致使人民的權益受損時，人民依法可採行的行政救濟程序，下列何者正確？
(A)行政訴訟→請願 (B)請願→行政訴訟
(C)行政訴訟→訴願 (D)訴願→行政訴訟
25. () 若7歲以上未滿12歲的兒童有觸犯刑責行為時，應依何種法律來處理？
(A)兒童及少年福利法 (B)少年事件處理法
(C)社會秩序維護法 (D)刑事訴訟法
26. () 文化資產保存法對於人民私有古蹟之管理、處分、維修與買賣均有所限制，乃基於憲法第23條的那一項規定？
(A)防止妨礙他人自由 (B)避免緊急危難
(C)維護社會秩序 (D)增進公共利益

27. () 我國總統副總統選舉，從民國85年第九任起，改為下列何種選舉？
(A)間接民選 (B)直接民選 (C)國民大會選舉 (D)立法院選舉
28. () 在某些國家中，雖由一個政黨長期掌握政權，但仍有其他政黨合法存在，然其政治實力卻無法和這個大黨相抗衡，這是何種政黨體制？
(A)兩黨制 (B)多黨制 (C)一黨專政制 (D)一黨獨大制
29. () 民國94年6月7日，任務型國民大會代表表決通過憲法修正案，中央政府的組織與職權由此產生了重大的變革。根據此次修憲的結果，若要進行對總統及副總統的彈劾，須透過下列何者行使職權才可完成？
(A)立法院、司法院大法官 (B)立法院、國民大會
(C)司法院大法官、監察院 (D)監察院、國民大會
30. () 我國中央政府中，掌理各項考銓行政的機關為下列何者？
(A)行政院 (B)立法院 (C)司法院 (D)考試院
31. () 實施民主政治的國家，極為強調依法行政的原則。請問依法行政的主要內涵包括下列那二項？①法律由民意代表制定 ②法律能給予特定人特別的權利 ③法律能對特定人課予特別的義務 ④政府的施政須依據法律
(A)①② (B)①④ (C)②③ (D)③④
32. () 法國學者孟德斯鳩認為政府權力應分為行政、立法、司法三權分立，但孫中山先生則主張把考試、監察兩權獨立出來成為五權分立的政府體制，原因之一是擔心「行政權兼考試權」容易產生何種流弊？
(A)造成國會專制 (B)發生濫用私人
(C)政府效能的低落 (D)行政權與立法權的衝突
33. () 根據最新修正之相關選舉、罷免法律規定，有關總統、直轄市市長、縣（市）長、立法委員等候選人的年齡依序分別為多少歲？
(A)40、30、30、23 (B)40、35、30、23
(C)45、35、25、23 (D)45、30、25、23
34. () 近年來，我國出生人口和出生率持續降低，對於未來社會發展會產生那些影響？①人口出生率降低、高齡化社會有助於經濟發展 ②有關部門必須加強老人安置和照顧工作 ③經過若干年後，青年人的負擔將會加重 ④政府應強迫人民生育，以維持適量人數
(A)①② (B)①④ (C)②③ (D)③④

35. () 我國民法親屬編規定有各種親屬關係，其中姻親乃因婚姻關係而成立，下列何者不屬於親屬關係中的姻親？
 (A)姑丈 (B)岳父、岳母 (C)媳婦的爸爸 (D)丈夫的嫂嫂

解答與提示

- B；依照聯合國世界衛生組織的定義，所謂高齡化社會，指65歲以上的老年人口至少必須占全國人口總數的(B)7%。
- A；(A)妨害性自主為「非告訴乃論」，不屬於鄉、鎮、市(區)公所調解委員會的調解範圍。
- D；父親與兒子之間職業的改變，屬於兩代之間的(D)代間流動。
- C；本題中，(A)、(B)、(D)選項皆不屬於「尊重」修養的實踐。
- D；教科書得為個人所私有，為財產權之客體，非屬公共財。
- B；資本主義經濟制度本著自由主義的精神，強調由「看不見的手」來主導經濟活動，所謂「看不見的手」，指的是市場的(B)價格機能。
- C；(A)汽油價格持續降低。(B)預期所得繼續增加。(D)汽車進口關稅降低會引起社會對自用汽車的需求增加而非降低。本題應選(D)。
- D；本題中，(D)進口國人民的年齡結構不是影響輸出的因素。
- B；本題中針對廠商之拒不退貨春嬌可以採取(B)民事訴訟途徑，以保障自己的權益。
- A；費者對於物品價格高時減少購買量，價格低時增加購買量，就是所謂的「需求法則」。其主要是解釋消費者對商品之需求量和(A)商品價格之間的關係。
- B；「電視購物頻道」提供買賣雙方交易平台，相當於經濟循環圖中的(B)商品市場、(C)消費者、(D)生產者。
- B；張先生在市場經濟中扮演①要素市場需求者(老闆)、④商品市場供給者(廠商)之角色。本題應選(B)①④。
- A；國際貿易是為了充分發揮國際分工的功用，使各國從事其本身最擅長的生產，然後彼此交換，大家受利；國際分工是依照比較利益原則來進行的。
- B；對個人與社會而言，不同資源可能有許多組合，對一種資源有所得，另一種資源必有所失，這就是「取捨」。(B)機會成本指選擇某一種資源產品或工作所必須放棄的其他選擇中價值最高者，亦稱為「選擇成本」或「經濟成本」。
- B；消費者保護法規定郵購或訪問買賣擁有「猶豫權」。消費者對所收到的商品不願買受時，可在收受商品後七日內考慮是否要購買該商品；若不願購買，可退回商品或書面通知企業經營者解除買賣契約。且消費者擁有無條件解約的權利，無須說明理由及負擔任何費用或價款，便可解除契約。
- D；本題中，
 (A)阿秀生產「籃球」的相對成本為12/5。
 (B)阿明生產「籃球」的相對成本為6/3。
 (C)永倫生產「籃球」的相對成本為3/6。
 (D)小花生產「籃球」的相對成本為6/13。
 (A)阿秀生產「籃球」的相對成本最高，(D)小花生產「籃球」的相對成本最低，本題考選部公布選(D)給分。
- B；小茜購買鞋子時一定挑選某個知名品牌，即使定價不便宜，她也認為相當值得，反映了小茜的購買需求，主要是受到(B)個人偏好的影響。
- D；(A)賭博、(B)通姦、(C)吸食鴉片：社會法益。
 (D)聚眾鬥毆(傷害罪)：個人法益。

19. A；依刑法第47條之規定：受徒刑之執行完畢，或一部之執行而赦免後，五年以內故意再犯有期徒刑以上之罪者，為累犯，加重本刑至二分之一。本題應選(A)累犯。
20. A；狹義的法律，是指由立法院三讀通過，並經(A)總統公布的法律。
21. C；彌勒氏之「自由論」中強調「個人自由以不侵犯他人之自由為範圍，才是真自由」。
22. A；任意在網路上轉貼他人的文章，可能侵犯他人的(A)著作權，本題應選(A)著作權。
23. D；(A)無照駕駛汽車：行政責任。
(B)積欠債務不還：民事責任。
(C)穿戴仿冒服飾：行政責任。
24. D；當政府的行政處分違法或不當，致使人民的權益受損時，人民應依法提起訴願，訴願而不服其決定時，使得以針對違法之行政處分提起行政訴訟，本題應選(D)訴願→行政訴訟。
25. B；依(B)少年事件處理法第85條之規定，七歲以上未滿十二歲之人，有觸犯刑罰法律之行為者，由少年法院適用少年保護事件之規定處理之。
26. D；依文化資產保存法第1條之規定：「為保存及活用文化資產，充實國民精神生活，發揚多元文化，特制定本法。」該法之制定，旨在(D)增進公共利益。
27. B；我國總統副總統選舉，從民國85年第九任起，改為(B)直接民選（總統、副總統由中華民國自由地區全體人民直接選舉之）。
28. D；所謂「一黨專政制」，指國家長期由一個較大的政黨執政，但允許小黨存在，小黨無法和此大黨相抗衡。
29. A；若要進行對總統及副總統的彈劾，須透過立法院提出總統、副總統彈劾案，聲請司法院大法官審理，經憲法法庭判決成立時，被彈劾人應即解職。本題應選(A)。
30. D；考試院為國家最高考試機關，掌理各項考銓行政。
31. B；依法行政的主要內涵包括：①法律由民意代表制定；④政府的施政須依據法律。本題應選(B)。
32. B；孫中山先生主張把考試、監察兩權獨立出來成為五權分立的政府體制，其主要目的應是避免行政權兼考試權會造成私自用人，以及立法權兼監察權會造成議會專制的問題。
33. A；總統：40歲、直轄市市長：30歲、縣（市）長：30歲、立法委員：23歲；本題應選(A)。
34. C；①人口出生率降低、高齡化社會「無」助於經濟發展。
④政府「不」應強迫人民生育，以維持適量人數。
本題應選(C)②③。
35. C；媳婦的爸爸屬於血親之配偶之血親，不屬於親屬關係中的姻親。

100年司法五等人員考試試題

等別：司法五等考試

類科：一般行政

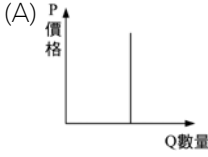
1. () 小華就讀高中不久，便以同學多擁有手機和配戴隱形眼鏡為由，而請求父母親滿足其需求。依上述內容判斷，最主要是何種管道對小華學習適應社會生活的影響？ (A)家庭 (B)學校 (C)同儕團體 (D)傳播媒體
2. () 在社會上生活每日的對話中，我們常不自知的表現出性別的刻板印象，下列何者帶有性別刻板印象？
(A)老闆對張小姐說：「不景氣，公司要裁員，妳最資淺，只好請妳離職！」
(B)老師對小學生說：「來兩個力氣大的同學，去隔壁教室幫老師搬桌子！」
(C)爸爸對女兒說：「後天妳生日，想要什麼禮物？電腦遊戲還是圖畫書？」
(D)班長對同學說：「星期天全班去烤肉，男生負責搬東西，女生負責洗菜。」
3. () 我們常可聽到人家說：「善有善報，惡有惡報，不是不報，時候未到。」此說法最主要是基於何種社會規範以勸人為善？
(A)風俗習慣 (B)倫理道德 (C)宗教信仰 (D)法律命令
4. () 我國於2009年5月以觀察員身分參加世界衛生大會，另外，我國也積極爭取加入世界衛生組織（WHO），有關於WHO分類的描述，下列何者正確？
(A)全球性，政府組織 (B)全球性，非政府組織
(C)區域性，政府組織 (D)區域性，非政府組織
5. () 《身心障礙者權益保障法》中提及對於身心障礙者提供經濟安全的保障，並採生活補助、日間照顧及住宿式照顧補助等方式，以保障身心障礙者。請問，此法的制定是在彰顯國家存在的何種目的？
(A)維護文化傳統 (B)增進公共利益 (C)落實社會正義 (D)維持安全與秩序
6. () 我國政府為了因應高齡化社會的到來，並提供國民老年生活之保障，民國97年10月1日起開始施行「國民年金」。該項業務由中央主管機關內政部委託下列那一單位辦理？
(A)勞工保險局 (B)健康保險局 (C)職業訓練局 (D)人事行政局
7. () 我國立法委員選舉，具原住民身分的選舉人，可選擇參加區域代表或原住民代表的選舉，但不可以同時參加二者的投票，主要是為了落實那一項選舉的原則？ (A)普通 (B)平等 (C)直接 (D)無記名

8. () 小惠到柬埔寨自助旅行，看到當地小孩衣著破爛、赤腳向遊客兜售或乞討，因此決定要付出行動幫助他們。下列做法中，何者較不適當？
(A)施捨零錢給乞討者 (B)參加海外志工組織
(C)捐款當地學校興學 (D)認養當地病童孤兒
9. () 公共造產是指地方政府依照地方特色與資源，所經營具有經濟價值之事業，下列那項屬於公共造產？
(A)行政院客家委員會主辦客家桐花祭
(B)高雄市政府主辦世界運動會
(C)臺北市政府主辦聽障奧林匹克運動會
(D)新北市金山區改建金包里公共溫泉浴室
10. () 2008年當選的第七屆立法委員中，部分委員由於賄選案被宣判當選無效定讞遭解職，因而後來又進行若干次的席次補選，其中當選無效之訴的宣判權應隸屬司法院的何項機關？
(A)普通法院 (B)行政法院 (C)中央選舉委員會 (D)公務員懲戒委員會
11. () 我國的道路中有國道，是由中央政府規劃維修，此外另有省道、縣道、鄉鎮道等，分別由各級政府負責，此即我國政治制度中的那一項特色？
(A)權能區分 (B)五權分立 (C)均權制度 (D)全民政治
12. () 從第七屆立法委員選舉起採用單一選區兩票制，選民應該如何投這兩票？
(A)二票圈選二個政黨
(B)二票圈選二位候選人
(C)一票圈選候選人，一票圈選政黨
(D)一票圈選區域候選人，一票圈選原住民候選人
13. () 2009年八八水災後曾興起總統發布緊急命令的輿論。請問，依據我國憲法，總統發布緊急命令需要經過那些程序才算生效？
(A)總統簽署、行政院副署 (B)立法院提議，監察院議決
(C)行政院院會決議，立法院追認 (D)行政院院會決議，大法官解釋通過
14. () 我國時常在街上看到標榜著無國界料理、臺菜西吃或和風洋食的餐廳，這種菜色或菜系的產生，乃是因為臺灣飲食文化與不同文化相遇後，經過長時間的接觸並彼此影響下，所誕生的新型態餐飲文化。我們可以稱這種影響過程為下列何者？
(A)涵化 (B)同化 (C)濡化 (D)社會化

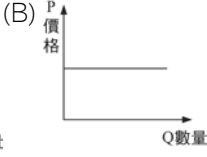
15. () 在網路上下載未經授權的影音創作、燒錄、販售等行為，最明顯的是觸犯了何項法律？ (A)專利法 (B)商標法 (C)著作權法 (D)公司法
16. () 法律制定的程序，一般可分為那三個階段？
(A)提案、審查、讀會 (B)提案、連署、審查
(C)提案、讀會、公投 (D)連署、聽證、讀會
17. () 大雄今年14歲，就讀國中二年級，因為偷竊被移送法辦。根據上述，大雄的行為所涉及的相關法律，應優先適用下列那一項？
(A)刑法 (B)民法 (C)少年事件處理法 (D)兒童及少年福利法
18. () 刑事訴訟雖重視對犯罪的追訴，但也注意對人權的保障。在訴訟過程中用來確保被告人權的原則，下列何者錯誤？
(A)三級三審之審級制度
(B)偵查公開、審判不公開
(C)疲勞訊問所得之自白不能成為呈堂證供
(D)被告在未經審判證明其有罪前應推定其為無罪
19. () 郵購是近年新興的交易方式，下列有關解除郵購買賣契約的敘述，何者符合《消費者保護法》的規定？
(A)只要對商品不滿意即可提出 (B)必須商品有瑕疵才可以提出
(C)必須說明理由後才可以提出 (D)必須負擔解約所需要的費用
20. () 憲法為國家根本大法，其修改程序通常較一般法律複雜與困難，此為憲法的何種特性？ (A)普遍性 (B)原則性 (C)最高性 (D)穩定性
21. () 我國民法規定，父母於子女出生登記前，應以書面約定子女從父姓或母姓。子女經出生登記後，於未成年前，得由父母以書面約定變更為父姓或母姓。根據上述判斷，此規定最能體現我國憲法保障人民權利的那一項精神？ (A)自由 (B)民主 (C)平等 (D)正義
22. () 就法律的位階而言，下列那一組不屬於同一個位階？
(A)中華民國憲法－中華民國憲法增修條文
(B)家事事件處理辦法－公平交易法施行細則
(C)性騷擾防治法－性別工作平等法
(D)消費者保護法施行細則－山坡地保育利用條例

23. () 所謂「罪刑法定主義」，是指犯罪的成立要件，以及犯罪的法律效果，均必須在法律上預先加以規定。下列何者不屬於罪刑法定主義所涵蓋的概念？
(A)不得溯及既往 (B)無罪推定原則
(C)禁止類推適用 (D)禁止習慣法直接適用
24. () 特偵組是特別偵查組的簡稱，依據《法院組織法》的規定，特偵組隸屬於下列那一個機關？
(A)法務部廉政署 (B)法務部調查局 (C)地方法院檢察署 (D)最高法院檢察署
25. () 鮪魚數量逐年減少，漁業署因此限定今年捕鮪魚總額不得超過30萬公斤，但遭漁民嚴正抗議。漁民代表說：「限漁政策無異是將此經濟產物拱手讓給大陸和日本漁民」。請問下列何者最能貼切描述此問題之核心？
(A)我國淡水養殖魚業產能不足，造成對海洋漁業的過度依賴
(B)政府對漁業限制過多，漁民是受壓迫的族群
(C)海洋魚類屬共有財，因財產權不明，容易造成濫捕
(D)臺灣與中國大陸、日本海域劃分不明，容易造成漁民惡性競爭
26. () 目前有許多國家推動「公平貿易」政策，主張商品生產方式應對環境友善，例如減少農藥的使用，運用節能減碳的方式生產等等。此種政策的推動，與那一種生產要素的關連性最高？
(A)自然資源 (B)人力資源 (C)企業才能 (D)資本設備
27. () 家庭理財的重要觀念就是「開源節流」，下列有那些是「開源」的方法？
①向銀行貸款，增加資金的運用 ②兼職補貼收入 ③培養第二專長，提升職場競爭力 ④在職進修增進加薪機會 ⑤向親友借錢，週轉資金
(A)①②③ (B)①④⑤ (C)②③④ (D)②④⑤
28. () 下列關於不同型態企業優缺點的敘述，何者錯誤？
(A)獨資企業的優點是效率高、利潤獨享
(B)股份有限公司的優點是容易籌得資金、吸引人才
(C)獨資企業的缺點是不穩定，難以擴大規模
(D)股份有限公司的缺點是營運權操之在小股東，大股東權益較難保障
29. () 若財貨甲的價格逐漸下降，財貨乙的價格逐漸上升，使財貨丙的需求量逐漸減少，我們可以說，財貨甲和財貨丙以及財貨乙和財貨丙之間依序呈現什麼關係？
(A)替代品；替代品 (B)互補品；互補品
(C)替代品；互補品 (D)互補品；替代品

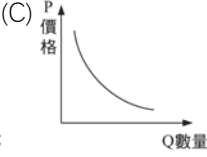
30. () 每當中央氣象局預測颱風可能來襲時，許多大賣場或超級市場往往出現搶購熱潮。如果以影響消費行為的因素來看，此種現象最有可能是受到何種因素的影響？
(A)商品價格 (B)所得水準 (C)主觀偏好 (D)預期心理
31. () 現代社會的人們通常只靠專精一兩項專長，不需要親自生產「柴、米、油、鹽…」就能夠衣食無虞，甚至比從前農業社會還要豐富。最主要是因為透過那種平台，人們可以分工合作？
(A)政府 (B)市場 (C)農會 (D)合作社
32. () 經濟學上的「供給法則」主要說明在其他條件不變的情況，產品「供給量」與價格間變動的關係，請問此一關係可用下列那一個圖形來表示？
- (A)



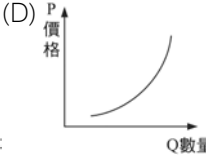
(B)



(C)



(D)


33. () 小明飲料店每日販售的咖啡，每杯成本11元，每杯售價20元，平均一天可以賣出100杯。現在小明為了回饋顧客的長期支持，將每杯咖啡的價格調降為15元。在成本不變的情形下，小明如果要維持原來的利潤，每天最少要賣出多少杯的咖啡？ (A)225杯 (B)200杯 (C)220杯 (D)215杯
34. () 運用下列那一種經濟學上的法則，最可能實現「人盡其才」或「天生我才必有用」的理想？
(A)社會成本 (B)供需法則 (C)絕對利益法則 (D)比較利益法則
35. () 阿嬌經常透過網路郵購不同品牌化妝用品，並在拆開使用5天後就要求解除買賣契約，上述情形主要違反了《民法》上權利行使的何項原則？
(A)消滅時效 (B)誠實信用 (C)契約自由 (D)公序良俗

解答與提示

1. C；同學對小華學習適應社會生活的影響，屬於(C)同儕團體之影響力。
2. D；本題中，僅(D)選項針對「性別」表現出刻板印象。
3. C；宗教信仰往往藉由「因果報應」之觀念以勸人為善。
4. A；世界衛生組織(WHO)屬於(A)全球性，政府組織。
5. C；《身心障礙者權益保障法》之制定，旨在彰顯國家(C)落實社會正義，照顧弱勢團體之目的。
6. A；「國民年金」業務係由中央主管機關內政部委託(A)勞工保險局辦理。
7. B；具原住民身分的選舉人，可選擇參加區域代表或原住民代表的選舉，但不可以同時參加二者的投票，主要是為了落實選舉的(B)平等原則(每人一票，每票等值)。

8. A；本題中，(B)參加海外志工組織，(C)捐款當地學校興學，(D)認養當地病童孤兒皆為較適當之幫助行動，而(A)施捨零錢給乞討者則否。
9. D；公共造產事業乃是縣市政府及鄉鎮市公所經營的一種公營事業，亦是拓展地方自治事業，充裕自治財源，加速經濟建設，促進地方繁榮最有效的方法。經營方式包括：自己經營、合作開發經營、委託經營管理。本題中(D)新北市金山區改建金包里公共溫泉浴室即屬於公共造產。
10. A；選舉罷免訴訟由隸屬司法院(A)普通法院負責審理。
11. C；我國中央政府與地方政府權限劃分採「均權制度」，事務具有因地制宜性質宜屬地方處理者，劃歸地方政府，本題中，省道、縣道、鄉鎮道等，分別由各級政府負責，此即我國政治制度中的(C)均權制度。
12. C；單一選區兩票制中之「二票」，為(C)一票圈選候選人，一票圈選政黨。
13. C；依據我國憲法增修條文之規定，「總統為避免國家或人民遭遇緊急危難或應付財政經濟上重大變故，得經行政院會議之決議發布緊急命令，為必要之處置，不受憲法第四十三條之限制。但須於發布命令後十日內提交立法院追認，如立法院不同意時，該緊急命令立即失效。」本題應選(C)行政院院會決議，立法院追認。
14. A；涵化即潛移默化，臺灣飲食文化與不同文化相遇後，經過長時間的接觸並彼此影響，從而誕生出的新型態餐飲文化屬之。
15. C；在網路上下載未經授權的影音創作、燒錄、販售等行為，最明顯的是觸犯了(C)著作權法。
16. A；法律制定的程序，依序為(A)提案、審查、讀會。
17. C；大雄今年14歲，應優先適用(C)少年事件處理法（針對12歲以上未滿18歲）。
18. B；偵查「不應」公開、審判「不應」公開。
19. A；依《消費者保護法》的規定，針對郵購商品，在猶豫期內(A)只要對商品不滿意即可提出解除郵購買賣契約。
20. D；憲法是國家的根本大法，為了建立長久的法律制度，故憲法修改程序較一般的法律較繁複。本題應選(D)穩定性。
21. C；父母於子女出生登記前，應以書面約定子女從父姓或母姓…等相關規定，足以展現出男女平等，本題應選(C)平等。
22. D；消費者保護法施行細則一命令；山坡地保育利用條例：法律。
23. B；罪刑法定主義：指只要法律沒有明文規定，就不成立犯罪。
本題應選(B)無罪推定原則：指被告在未經判決確定其有罪之前，應推定其為無罪。
24. D；最高法院檢察署特別偵查組（Special Investigation Division, SID），簡稱特別偵查組、特偵組，是中華民國最高法院檢察署的特設單位。
25. C；漁業署限定捕鮪魚總額，無異是將此經濟產物拱手讓給大陸和日本漁民，以上說法是由於(C)海洋魚類屬共有財，因財產權不明，容易造成濫捕。
26. A；減少農藥的使用，運用節能減碳的方式生產等政策的推動，與自然資源之維護的關連性最高。
27. C；①向銀行貸款，增加資金的運用、⑤向親友借錢，週轉資金屬於「借貸」行為，並不屬於「開源」的方法。
28. D；股份有限公司的缺點是營運權操之在「大」股東，「小」股東權益較難保障。
29. C；財貨甲的價格逐漸下降（需求量上升），丙的需求量減少；財貨甲和財貨丙：替代品。
財貨乙的價格逐漸上升（需求量下降），丙的需求量減少；財貨乙和財貨丙：互補品。
30. D；颱風可能來襲時，許多大賣場或超級市場往往出現搶購熱潮之現象，最有可能是受到(D)預期心理因素的影響。
31. B；市場具備兩種意義，其中一個意義是場所，如傳統市場、股票市場、期貨市場等等，另一意義為交易行為的總稱。廣義上，所有產權發生轉移和交換的關係都可以成為市場。透過(B)市場，人們可以分工合作。

32. D；經濟學上的「供給法則」主要說明在其他條件不變的情況，產品「供給量」與價格間呈「正向」變動的關係，此一關係可用圖形D來表示。
33. A； $(20-11) \times 100 = 900$ （1日之利潤）； $900 / (15-11) = 225$ 杯。
34. D；透過「比較利益原理」，經由分工、專業化及交換的過程，每個人都可以依自己的專長找到適合自己的工作，最可能實現「人盡其才」或「天生我材必有用」的理想。
35. B；本題中，阿嬌之行為，主要違反了《民法》上權利行使的(B)誠實信用原則。

100年特種考試地方政府公務人員考試試題

等別：五等考試

類科：一般行政

- () 小玲某日逛百貨公司，因看到自己喜愛的手錶，但又因身上所攜帶的金錢不足，於是便順手牽羊，被店員發現後將其移送法辦。承審法官因念小玲為初犯，且所犯之罪又為輕微案件，在符合法律規定下，法官可為何種宣告？ (A)假釋 (B)緩刑 (C)不起訴 (D)緩起訴
- () 下列對於民事訴訟的相關敘述，何者正確？
(A)採用職權進行主義
(B)訴訟費用由原告自行負擔
(C)由檢察官負舉證之責任
(D)損害賠償責任以回復原狀為原則，金錢賠償為例外
- () 與其他民主法治國家相同，我國的法律體系呈現金字塔形層級構造，請問這種「金字塔形的法律位階」層級，主要乃是以下列何者作為劃分的依據？ (A)修改程序 (B)解釋機構 (C)施行效力 (D)制定機關
- () 下列那些行為屬於我國民法規範的範圍？
①養父母收養子女 ②犯罪的構成要件 ③訂定買賣契約 ④大法官釋憲程序
(A)①② (B)①③ (C)②④ (D)③④
- () 為防治家庭暴力行為及保護被害人權利，依《家庭暴力防治法》，被害人可以向那一機關聲請保護令？
(A)法院
(B)警察局
(C)各縣市家庭暴力及性侵害防治中心
(D)行政院家庭暴力及性侵害防治委員會
- () 透過公正第三人居中協調的制度，經雙方當事人同意並作成書面送交法院核定後，其與法院的確定判決，具有相同的效力。請問這是何種權利救濟的手段？ (A)和解 (B)調解 (C)仲裁 (D)訴訟
- () 王大明的兒子娶了李大方的女兒，王、李兩家聯姻，王大明與李大方互稱「親家」，請問王大明與李大方在《民法》中的親屬關係是下列何者？
(A)直系姻親 (B)旁系姻親 (C)旁系血親 (D)沒有親屬關係

8. () 憲法是人民權利的保障書，政府的施政作為不可逾越憲法規範，為確保政府權力符合憲法之要求，民主法治國家常透過下列何種制度來達到目的？
(A)選舉罷免 (B)公民投票 (C)創制複決 (D)違憲審查制度或釋憲
9. () 在民事私法領域內，尊重每一個人的自主性，只要不違反法律規定、公共秩序與善良風俗等，當事人皆可在法律限制的範圍內，依憑個人的意思表示，決定個人的行為會產生何種法律效果。上述說法旨在說明下列何種概念？
(A)所有權絕對原則 (B)法律優越原則 (C)誠實信用原則 (D)私法自治原則
10. () 芳芳未婚生子，在孩子出生後才與孩子的父親辦理結婚手續，這孩子在法律上原本被視為非婚生子女，在其父母結婚後視為婚生子女，這樣的程序依據《民法》規定稱為什麼？ (A)準正 (B)認領 (C)收養 (D)認養
11. () 下列何者是屬於生產活動中所投入的資本？
(A)中油公司員工餐廳的平面電視機 (B)黃老師休旅車上的液晶電視機
(C)蕭董事長豪華別墅裡的電漿電視機 (D)天天來KTV包廂裡的大型電視機
12. () 各國選擇「機會成本最低」的產品進行生產，可使總產量增加，再透過國際市場交易的過程，彼此就能享受到更多、更便宜的產品，這是基於經濟學上何種概念的考量？
(A)比較利益 (B)絕對利益 (C)外部效益 (D)供需法則
13. () 阿榮以外幣購買國外債券，在其他條件不變的情況下，如果換算成新臺幣計價，當新臺幣貶值時會造成收益有何變化？
(A)增加 (B)減少 (C)維持不變 (D)難以預測
14. () 下列那一項消費行為可以用「需求法則」來解釋？
(A)YY火鍋店開幕特價優惠，火鍋店的客人大排長龍
(B)強烈寒流來襲，CC火鍋店的客人大排長龍
(C)TT高科技公司加薪15%，員工紛紛到火鍋店慶祝，大排長龍
(D)GG火鍋店獲得米淇淋一顆星的肯定，火鍋店的客人大排長龍
15. () 英傑任職於某貿易公司，該公司每年會選派優秀員工，赴海外做短期的語言訓練。該公司此種作法是要提升那項生產要素？
(A)人力資本 (B)人造資本 (C)社會資本 (D)自然資本
16. () 志明留學歸國後待業中所形成的失業情形，應屬於何種失業類型？
(A)摩擦性失業 (B)結構性失業 (C)循環性失業 (D)自然性失業

17. () 大雄想要自己創業開設飲料店，他心想如果把飲料店開在學校附近的話，生意一定不錯，所以就在學校附近租下一間店面準備開業。請問大雄最主要考慮的應該是以下那一項生產課題？
(A)生產什麼 (B)如何生產 (C)為誰生產 (D)誰來生產
18. () 「取之於社會、用之於社會」這句話對企業來說，代表企業的成功，光靠自身努力是不夠的，還需社會大眾的認同和支持。請問下列何者不是企業對社會責任實踐的典範？
(A)甲金控長期贊助「雲門舞集」
(B)乙超商成立「綠色基金」，贊助「荒野保護協會」
(C)丙銀行長期贊助聯合勸募募款，幫助弱勢
(D)丁百貨公司週年慶，推出滿5000送500的策略
19. () 在一般情況下，下列情境中，何者會為他人帶來屬於「外部效益」？
(A)邊走邊抽菸或吐痰 (B)在醫院旁舉行示威遊行
(C)在人行道上擺放攤位 (D)在自家庭院種植美麗花草
20. () 政府為興建捷運而強制徵收人民的土地，係依據憲法第23條的那一項理由？
(A)為防止妨礙他人自由 (B)為避免緊急危難
(C)為維持社會秩序 (D)為增進公共利益
21. () 我國在解嚴後進行人民團體法之修正，以落實中華民國憲法中結社自由之實質保障，自此各種人民團體亦如雨後春筍般蓬勃發展。以政治團體為例，截至98年12月底，在政府備案政黨名冊中已共計有158個；然而，反觀各項公職人員當選名單中，實際取得執政機會的政黨數目卻是寥寥可數。上述備案政黨名冊之執掌，隸屬於政府那一個主管機關？
(A)立法院 (B)司法院 (C)內政部 (D)中央選舉委員會
22. () 根據我國憲法增修條文規定，行政院對於立法院所通過的法律案、預算案與條約案，如認為窒礙難行時，得經由下列何者核可，移請立法院覆議？
(A)總統 (B)行政院院長 (C)立法院院長 (D)司法院院長
23. () 共和國是一種沒有任何君主存在的政治體系，而君主國則是指由世襲方式決定國家元首的政治體系，此元首可能是虛位元首，如英國，也可能是實權元首，如沙烏地阿拉伯。上述的國家分類標準，我們稱其為下列何者？
(A)政府體制 (B)政黨制度 (C)選舉制度 (D)國家體制

24. () 關於我國與亞太經濟合作會議 (APEC) 的關係，下列敘述那些是正確的？
①APEC是一個政府間國際組織 ②我國與中共、香港都是會員 ③我國經濟部長可以出席每年召開的部長級會議 ④2009年起中華民國總統可以出席領袖高峰會
(A)①②③ (B)②③④ (C)①③④ (D)①②④
25. () 根據我國憲法增修條文之規定，下列四院院長的產生方式，那一個院院長的產生方式與其他三院不同？
(A)立法院院長 (B)司法院院長 (C)考試院院長 (D)監察院院長
26. () 技安向戶政機關提出更改姓名的申請，但不被受理，於是向相關行政機關提出訴願。根據上述，請問技安提出訴願，屬於人民的那一項基本權利？
(A)平等權 (B)自由權 (C)受益權 (D)參政權
27. () 我國「民法」對於夫妻財產的規範，下列敘述何者正確？
①家庭生活費用由丈夫獨力負擔
②夫妻之一方受破產宣告時，另一方須負起債務
③夫妻各自管理、使用、收益及處分其財產
④於家庭生活費用外，得協議一定數額之金錢，供夫或妻自由處分
(A)①② (B)②③ (C)③④ (D)①④
28. () 某大學一名女性職員，因為懷孕末期身體不適因而提出產前假，卻遭到長官以影響工作為由不予續聘。該女性員工向勞工局提出「懷孕歧視」申訴，希望能爭取自己的權益。該大學的這種作法明顯違反了何種法律規定？
(A)《公司法》 (B)《性別歧視法》
(C)《性別工作平等法》 (D)《性別平等教育法》
29. () 政府收入的來源有很多種，下列何者是政府收入最主要的來源？
(A)各類稅收 (B)公營事業盈餘 (C)高速公路通行費 (D)政府公債
30. () 開車經過高速公路必須繳交通行費，這種繳交通行費的作法，是根據下列那項原則？ (A)受益原則 (B)需求法則 (C)供給法則 (D)負擔能力原則
31. () 依據中華民國憲法增修條文之規定，審理政黨之違憲與解散事宜，屬於下列何者的職權？
(A)行政院 (B)憲法法庭 (C)最高法院 (D)大法官會議
32. () 從過去社會認同「男主外、女主內」至近年來性別平等觀念之養成，這樣的變化是屬於下列那一項？
(A)社會流動 (B)社會變遷 (C)社會互動 (D)社會階層化

33. () 近年來，臺灣各地的社區居民逐漸重視社區總體營造，下列何者最符合「社區總體營造」的精神？
- (A)派出所針對社區治安死角，加強巡邏
 (B)居民美化、綠化環境，設計街頭裝置藝術
 (C)行政院文化建設委員會將社區古廟規劃為古蹟，妥善加以保存維護
 (D)縣政府研究開發當地民俗文化活動，以促進地方觀光事業
34. () 邁入21世紀，人們的日常生活用品可能來自世界各地，例如餐桌上的桌布來自印度、冰箱是韓國製造、牛奶來自日本北海道、電腦是臺灣廠商在中國組裝後運回本地銷售…。這些現象用下列那一個詞彙描述最恰當？
- (A)標準化 (B)全球化 (C)在地化 (D)數位化
35. () 下列關於「資訊科技」對人類社會帶來的影響，那些是正確的？
- ①改變人類知識學習的模式 ②帶動全球化的發展 ③帶來生活的便利且無副作用 ④可能使人際關係更加疏離
- (A)①②③ (B)①②④ (C)①③④ (D)②③④

解答與提示

1. B；緩刑為法院在刑事審判中，根據被判處刑罰的罪犯的犯罪情節和悔罪表現，規定一定的考驗期，暫緩刑法的執行。如在考驗期內，滿足一定的條件，原判刑法將不再執行的一種制度。
2. D；(A)採用「當事人」進行主義。(B)訴訟費用原則上由被告負擔。(C)由原告負舉證之責任。
3. C；「金字塔形的法律位階」層級，為學者凱爾生所提出，其主要是以法律之(C)施行效力作為劃分的依據。
4. B；②犯罪的構成要件--屬於我國刑法規範的範圍。
 ④大法官釋憲程序--屬於我國憲法規範的範圍。
5. A；依家庭暴力防治法第10條之規定：
 被害人得向法院聲請通常保護令、暫時保護令；被害人為未成年人、身心障礙者或因故難以委任代理人者，其法定代理人、三親等以內之血親或姻親，得為其向法院聲請之。
6. B；調解是訴訟程序中，除判決和裁決外，另一種解決爭議的方法。調解過程是由認可調解員，以中立人士身分，協助爭議雙方了解爭議的焦點，探討雙方的利益和需要，尋求共同接受的解決方案，經雙方當事人同意並作成書面送交法院核定後，其與法院的確定判決，具有相同的效力。
7. D；依民法第969條之規定：
 稱姻親者，謂血親之配偶、配偶之血親及配偶之血親之配偶。並不包括「兒女親家」（血親之配偶之血親）。
8. D；(A)選舉罷免。(B)公民投票。(C)創制複決為民主法治國家用以解決「人」與「事」問題之方法，為確保政府權力符合憲法之要求，則常透過。(D)違憲審查制度或釋憲制度來達到目的。
9. D；(A)所有權絕對原則：即個人私有財產之所有權，為神聖不可侵犯的權利。其行使固有自由，其不行使亦有自由。
 (B)法律優越原則：就是立法機關所定的「法律」比行政機關所定的「行政命令」優越，行政機關所定的行政命令和所作的行政行為，不得抵觸法律和上層位階的法令。

- (C)誠實信用原則：所謂誠信原則，係指一切法律關係，應各就其具體的情形，依正義衡平之理念加以調整，而求其妥適正當。
10. A；所謂「準正」，依民法第1064條之規定：非婚生子女，其生父與生母結婚者，視為婚生子女。
11. D；資本，在經濟學意義上，指的是用於生產的基本生產要素，即資金、廠房、設備、材料等物質資源，用來生產其他商品或產生收入的累積物力與財務資源。本題中，只有(D)天天來KTV包廂裡的大型電視機屬於生產活動中所投入的資本。
12. A；經濟學中從個人生涯規劃、企業經營者雇用員工、國際分工……等問題，都和「比較利益」法則這個觀念有關。
13. A；阿榮以外幣購買國外債券，在其他條件不變的情況下，如果換算成新臺幣計價，當新臺幣貶值時，原先以外幣計價之債券換算成新臺幣時，相當於以外幣購買新臺幣（外幣購買力提昇），收益將(A)增加。
14. A；需求法則（Law of Demand）：
假設其他條件不變，財貨需求的價格與數量間的反向關係，稱之。
本題各選項中只有(A)YY火鍋店開幕特價優惠，火鍋店的客人大排長龍屬於「財貨需求的價格與數量間的反向關係」。
15. A。
16. A；失業的種類：
(A)摩擦性失業：勞動力離開上一個工作，因為某些原因還沒有開始下一個工作，中間過渡的狀態就是摩擦性或過渡性失業。
(B)結構性失業：因為時空條件的變遷，造成經濟結構的改變，原先的工作機會逐漸消失，一旦失去工作，很可能就是永久性失業。
(C)循環性失業：因為景氣變動所造成的失業，當經濟處於衰退和蕭條的階段時，因為供過於求，所以廠商減少產出，因而減少對生產要素的需求。當景氣恢復時，又會僱用原先的生產要素。
(D)隱蔽性失業：高階低用的現象，隱含的是生產力無法完全發揮，以致產值降低。
17. C；經濟學三大課題：
(1)生產什麼（What）：為首先的課題，生產什麼產品的問題，必須考慮產品的先後緩急及產品的價值。
(2)如何生產（How）：為其次的課題，是屬於生產方式的問題。
(3)為誰生產（Whom）：為最後的課題，是屬於生產分配的問題，生產者生產出來的產品應分配給哪些消費者最有利。
大雄在學校附近租下一間店面準備開業，最主要考慮的應該是(C)為誰生產。
18. D；(D)百貨公司週年慶的促銷策略，是以銷售為出發點之考量，非屬企業對社會責任實踐的典範。
19. D；(A)邊走邊抽菸或吐痰；(B)在醫院旁舉行示威遊行；(C)在人行道上擺放攤位；皆屬於會為他人帶來「外部成本」之情境。
20. D；政府為興建捷運而強制徵收人民的土地，係基於(D)為增進公共利益的理由。
21. C；人民團體法第3條規定：
本法所稱主管機關：在中央及省為內政部；在直轄市為直轄市政府；在縣（市）為縣（市）政府。但其目的事業應受各該事業主管機關之指導、監督。
22. A；憲法增修條文第3條第2項第2款規定：
行政院對於立法院決議之法律案、預算案、條約案，如認為有窒礙難行時，得經總統之核可，於該決議案送達行政院十日內，移請立法院覆議。立法院對於行政院移請覆議案，應於送達十五日內作成決議。如為休會期間，立法院應於七日內自行集會，並於開議十五日內作成決議。覆議案逾期未議決者，原決議失效。覆議時，如經全體立法委員二分之一以上決議維持原案，行政院院長應即接受該決議。

23. D；以國家元首之產生方式作為國家分類標準，強調共和國是一種沒有任何君主存在的政治體系，而君主國則是指由世襲方式決定國家元首的政治體系。以上之分類標準，即一般所稱之(D)國家體制（國體）。
24. A；本題中，①②③之敘述皆正確無誤，現階段我國經濟部長可以出席每年召開的部長級會議，但總統仍不可以出席領袖高峰會。
25. A；(A)立法院院長由立法委員互選之。(B)司法院院長。(C)考試院院長。(D)監察院院長由總統提名，立法院同意後任命。
26. C；人民對行政機關之行政處分，認為違法或不當，致損害其權利或利益時，得提起訴願。訴願屬於人民的(C)受益權中之行政上的受益權。
27. C；①家庭生活費用「不應」由丈夫獨力負擔。
②民法第1009條規定：夫妻之一方受破產宣告時，其夫妻財產制，當然成為分別財產制。是以夫妻之一方受破產宣告時，並非由另一方負起債務。
28. C。
29. A；性別工作平等法第11條規定：
雇主對受僱者之退休、資遣、離職及解僱，不得因性別或性傾向而有差別待遇。
工作規則、勞動契約或團體協約，不得規定或事先約定受僱者有結婚、懷孕、分娩或育兒之情事時，應行離職或留職停薪；亦不得以其為解僱之理由。
違反前二項規定者，其規定或約定無效；勞動契約之終止不生效力。
30. A；部分公共財是可以訂價的，可根據個人享有利益（受益原則，如高速公路的通行費）及個人負擔能力（負擔能力原則，如申報所得稅）來決定。
31. B；憲法增修條文第5條規定：司法院大法官，除依憲法第七十八條之規定外，並組成憲法法庭審理總統、副總統之彈劾及政黨違憲之解散事項。
32. B；從「男主外、女主內」至性別平等觀念之養成，以上的變化是屬於(B)社會變遷中的「價值、理念」層次。
33. B；社區總體營造的概念，首在於社區居民之主動參與，本題中(B)居民美化、綠化環境，設計街頭裝置藝術，最符合「社區總體營造」的精神。
34. B；隨著交通、資訊科技與貿易發展，使得國際間在政治、經濟、文化各方面的互動愈頻繁，國際間有形的疆界逐漸模糊，人與人、國與國之間的距離縮短，人類的生活因全球化而變得更密切。全球化亦可稱為全球關連，可用「天涯若比鄰」、「地球村」等詞語來表示全球關連的程度。本題中之各種現象以(B)全球化來描述最恰當。
35. B；資訊科技帶來生活的便利但亦有副作用，例如電腦駭客病毒的入侵，對政府機關、金融機構等電系統進行犯罪。網際網路造成人際關係疏離，人類隱私容易被侵犯，更助長了暴力、色情犯罪。

100年特種考試地方政府公務人員考試試題

等別：五等考試

類科：社會行政、人事行政、勞工行政、教育行政、財稅行政、金融保險、統計、會計、經建行政、地政、圖書資訊管理、政風、電子工程

1. () 創立於民國73年的董氏基金會，致力於營造無菸環境、推動菸害防制相關法案及器官捐贈等活動。依據我國法律規定，下列那一選項能正確代表該會的屬性？
 (A)社團法人，政治團體 (B)財團法人，政治團體
 (C)社團法人，社會團體 (D)財團法人，社會團體
2. () 性騷擾的現象和問題存在於許多社會中，並且不時引起人們的爭議和討論，臺灣也不例外。針對這個現象和問題，下列那些敘述是正確的？
 ①性騷擾只發生在異性之間，不是嚴重的問題
 ②性騷擾經常是受騷擾對象引誘的，並且誇大其詞
 ③性騷擾與男女正常接觸之間的界線不容易劃分
 ④性騷擾可以是單一發生的事件，也可能是一種持續的行為傾向
 (A)①② (B)①③ (C)②④ (D)③④
3. () 下列何者不屬於「家庭暴力防治法」中所謂的家庭成員？
 (A)離婚的夫妻 (B)同居的男女
 (C)繼父母與繼子女間 (D)住在同一宿舍的室友
4. () 某知名品牌咖啡連鎖商，其咖啡連鎖店遍佈全世界各地。這家公司的咖啡豆來自於中南美洲瓜地馬拉，當地工人採集咖啡豆五個工作天的薪資，才能夠買得起一磅此知名品牌咖啡。這反映了下列那一種現象？
 (A)人才流動分配的不均衡 (B)企業成長比重的不均衡
 (C)生產分工利潤的不平等 (D)文化傳播的不均衡
5. () 西元1996年於英國愛丁堡大學複製成功的桃莉羊，被視為是何種科技的里程碑？ (A)資訊科技 (B)農業科技 (C)生物科技 (D)環境科技
6. () 19歲的阿寶酒後駕車，迎面撞死了對向車道的機車騎士，當時酒測值超過酒醉駕駛標準。依上述內容判斷，阿寶的行為應如何處理？
 (A)非屬故意，不成立犯罪 (B)無責任能力，不成立犯罪
 (C)屬有過失，成立過失致死罪 (D)意識不清不成立犯罪，但須損害賠償

7. () 當海上颱風警報發布後，民眾如果在警報區內海域從事活動，不聽從執法人員勸導，主管機關可依《災害防救法》之規定開單處罰。上述法律規定，最主要是依據《憲法》上的何項理由？
(A)防止妨礙他人自由 (B)避免緊急危難
(C)維持社會秩序 (D)增進公共利益
8. () 依我國憲法及增修條文規定，關於憲法的修改方式與程序，下列敘述何者正確？
(A)行政院提修憲案，立法院投票議決
(B)立法院提修憲案，司法院大法官投票議決
(C)立法院提修憲案，公民投票複決
(D)司法院大法官提修憲案，公民投票複決
9. () 依據我國憲法增修條文之規定，獲得百分之五以上政黨選舉票之政黨才能分配全國不分區及僑居國外國民之立委席次，此種「政黨分配門檻」的限制，其主要理由是：
(A)方便計算席次 (B)反映多元民主 (C)保障少數族群 (D)避免小黨林立
10. () 依我國憲法規定，司法院設有十五位大法官，有關大法官的敘述，何者正確？
(A)為維持司法獨立，依我國憲法規定，大法官享有終身職
(B)大法官負責審理上訴至最高法院的民、刑事訴訟
(C)大法官組成憲法法庭審理政黨違憲之解散事項
(D)大法官組成憲法法庭審理公務人員之彈劾案
11. () 八八水災，造成生命財產的重大損失，其中的原因之一為過度開發，造成環境污染與生態破壞，每逢大雨時，山區土石流釀成大禍。為矯正此外部成本，下列何者是政府最適當的作法？
(A)將山區民眾全部遷居至平地 (B)在災後進行撫卹與補償
(C)在山區村落配置直升機與推土機 (D)制定並確實執行環境保護法規
12. () 下列那一個地方政府層級與其他三者不同？
(A)嘉義市 (B)基隆市 (C)嘉義縣 (D)桃園市
13. () 某部長因其洩漏公務機密資料，收受不當利益，違法失職事證明確，遭受彈劾。請問下列何者有權向該部長提出彈劾？
(A)考試院 (B)立法院 (C)司法院 (D)監察院

14. () 「公共財」是經濟學中一個重要的概念，下列那一個敘述，最足以說明「公共財」的特徵？
- (A) 共享而且無法排除他人使用的物品或勞務
(B) 在公共場合擺設的各種攤位
(C) 由政府提供的物品或勞務
(D) 由國家經營的公營事業
15. () 我們有時會看到部分一樓住家，白天將盆栽移至屋外占用門前小空地，以便於晚間停車之用。上述違反公共利益的情形，主要是屬於《民法》上權利行使的何項原則？
- (A) 消滅時效 (B) 誠實信用 (C) 權利濫用 (D) 損害賠償
16. () 不論是人類心智或體力的活動，凡從事生產以獲取收入為目的之勞務，皆稱為勞動。若以此定義，下列那一項活動不屬於勞動的範疇？
- (A) 藝人開演唱會 (B) 律師替客戶辯護
(C) 醫師到海地義診 (D) 工人建造光纖系統
17. () 《民法》規定買賣商品時，只要雙方當事人彼此口頭約定，契約即可成立，但是，民法亦規定有些契約必須以書面方式才具有法律效力。下列那幾種買賣行為須簽訂書面契約才具有法律效力？
- ①黃金買賣 ②土地買賣 ③房屋買賣 ④汽車買賣
- (A) ①② (B) ②③ (C) ①④ (D) ②③④
18. () 如果世界上只有甲國和乙國兩個生產資源相同的國家，利用相同的生產資源，甲國能生產800噸稻米和200噸大豆，乙國則能生產1000噸稻米和600噸大豆，根據比較利益法則，兩國應如何生產？
- (A) 乙國對生產稻米有比較利益 (B) 甲國生產大豆之機會成本較低
(C) 甲國應出口稻米，進口大豆 (D) 乙國應出口稻米，進口大豆
19. () 有關我國民事、刑事訴訟制度，下列敘述何者正確？
- (A) 檢察官與法官辦案均應秉持不告不理、無罪推定原則
(B) 民事糾紛只要進入法院訴訟程序後，就不能再進行和解或調解
(C) 最高法院屬於書面審、法律審，應以原判決確定之事實為判決基礎
(D) 重大犯罪被告或嫌疑人有串證、逃亡之虞時，檢察官依法可逕行羈押

20. () 依我國民法規定，關於年齡與行為能力的相關規範，下列敘述何者正確？
(A)十四歲以下者屬於無行為能力人
(B)十六歲已婚者為完全行為能力人
(C)腹中胎兒由於尚未出生，故無權利取得亡父的遺產繼承權
(D)未滿十四歲的兒童，其法律行為必須經由法定代理人為之，否則無效
21. () 人類文化行為存在著一些共同特徵，這些特徵在所有的社會中被發現，例如任何人群社會都有婚姻、家庭制度，都會有語言系統…等。這是屬於文化的那一種特性？ (A)普遍性 (B)差異性 (C)累積性 (D)約制性
22. () 我國近來一直積極爭取加入國際組織，拓展外交空間。下列何者是我國已經參加的全球性政府間國際組織？
(A)聯合國 (UN) (B)亞洲開發銀行 (ADB)
(C)世界貿易組織 (WTO) (D)國際特赦組織 (AI)
23. () 以下關於「國際貿易」的敘述，那項是正確的？
(A)「關稅」和「配額」是在稅制上做調整，但其目的是完全相反的貿易政策
(B)只要擁有「絕對利益」，不一定要擁有「比較利益」，兩國之間就可以藉著貿易互蒙其利
(C)「配額」與「自動出口設限」，都是在數量上對出口商品的限制
(D)不管是關稅、配額或那種型式的貿易政策，只要是干預自由貿易，都會造成市場總效益的減少
24. () 消費者對於洋洋車廠出產之新型跑車趨之若鶩，促使該項產品的市場需求增加，而洋洋車廠也主動增產，則下列敘述何項最為正確？
(A)市場均衡價格下降，但均衡數量增加
(B)市場均衡價格上升，且均衡數量也增加
(C)市場均衡價格上升，但均衡數量可能增加或減少
(D)市場均衡價格可能上升或下降，但均衡數量一定增加
25. () 非洲國家辛巴威於2007年12月發行75萬辛元面額的紙鈔，復於2008年1月18日發行100萬、500萬與1000萬辛元面額的紙鈔。由辛巴威紙鈔面額的變化，可推知該國的經濟狀況為何？
(A)物質缺乏，製幣成本增加 (B)國家強盛，紙幣價值升高
(C)經濟發達，貨幣需求量大增 (D)通貨膨脹，貨幣購買力變低

26. () 綠色國民所得 (Green GDP) 是目前新興的概念，假設海綿電子公司某年的年營業收入為1200萬，廠房設備的原始成本為600萬，但是使用一年後產生損耗與折舊，該年只剩下400萬的價值，而該公司對環境的衝擊產生400萬的環境成本。海綿電子公司該年度對綠色國民所得的貢獻是多少？
(A)200萬 (B)400萬 (C)600萬 (D)1200萬
27. () 自從臺灣旅美棒球投手王建民在美國職棒發光發熱之後，與他有關的周邊產品造成大熱賣，民眾相繼搶購。若就影響消費行為的因素來看，此一現象最有可能受到下列那一個因素影響？
(A)商品價格 (B)所得水準 (C)預期心理 (D)主觀偏好
28. () 以交易平臺的性質來看，下列那些平臺具有「無形市場」的性質？
①百貨公司 ②便利商店 ③網路商店 ④證券交易所
(A)①② (B)②③ (C)③④ (D)①④
29. () NN超商成立「綠色基金」，長期贊助「荒野保護協會」的活動與研究。下列那一個選項最能反映上述作法的意涵？
(A)企業從事公益活動是善盡其社會責任
(B)企業回饋社會是基於遵守政府的規定
(C)企業重視環保活動可以直接增加利潤
(D)企業保護荒野可能妨礙其本業的經營
30. () 一般成文憲法國家，為因應時代潮流的演進，除透過修憲程序外，先進民主國家亦常採下列何種作法，以使憲法能更有效發揮功能？
(A)由政府號召各政黨菁英進行政治協商
(B)透過公投過程重新制定一部新憲法
(C)由政府召集憲法學者不定期舉行釋憲會議
(D)由固定的釋憲機關進行相關條文的釋憲任務
31. () 為了維持法律關係的穩定，《民法》有「消滅時效」的規定，若權利人經過一定的時間不行使其權利，其權利將會喪失或受到限制。民法中規定的時效最長是幾年？ (A)5年 (B)10年 (C)15年 (D)20年
32. () 請問下列那一項為法國混合制政府的正確敘述？
(A)總統任命總理須經國會同意
(B)總統與總理分屬不同政黨時，會出現左右共治
(C)總統公布法令皆須總理副署
(D)總理可以行使覆議否決權

33. () 以下是小美爸爸投資理財的情形，何種理財工具的投資報酬率最高？

理財工具	甲	乙	丙	丁
投資金額	10萬元	6萬元	12萬元	8萬元
獲利金額	4000元	3500元	6000元	1600元

(A)甲 (B)乙 (C)丙 (D)丁

34. () 各項行政法規中，規定人民必須配合行政機關執行各項公務，遵守各項行政法規。以下何者不屬於行政機關對個人所做的行政處分或行政罰？

(A)警察開交通罰單 (B)國稅局補稅通知
(C)勒令停業或歇業 (D)判決後科以罰金

35. () 19歲的小張為了抵抗持刀闖入家裡的竊賊，在慌亂中隨手拿起球棒將該名歹徒打傷，小張不成立傷害罪的主要理由是什麼？

(A)不符犯罪構成要件 (B)具有阻卻違法事由
(C)不具有故意或過失 (D)當時並無責任能力

解答與提示

- D；董氏基金會屬於以財產之捐贈為成立基礎之(D)財團法人，社會團體。
- D；①性騷擾「不只」發生在異性之間，「是」相當嚴重的問題。
②性騷擾經常「非基於」受騷擾對象所引起，並且「並非」誇大其詞。
- D；只要家庭成員間施予身體上或精神上侵害之行為都構成「家庭暴力犯罪」。
家庭暴力常發生的三種情況：
(1)虐待配偶、同居人，對配偶、同居人施以暴力。
(2)家庭中受虐子女的問題。
(3)子女棄養雙親，不盡孝道，形成老人獨居問題嚴重。
- C；中南美洲瓜地馬拉，當地工人採集咖啡豆五個工作天的薪資，才能夠買得起一磅此知名品牌咖啡。這反映了(C)生產分工利潤的不平等。
- C；桃莉羊，被視為是(C)生物科技的里程碑。
- C；阿寶酒後駕車，迎面撞死了對向車道的機車騎士，(C)屬有過失，成立過失致死罪。
阿寶雖非屬故意，酒測值超過酒醉駕駛標準，「仍」成立犯罪。
- B；本題中，主管機關之依《災害防救法》規定開單處罰不聽勸導之民眾，最主要是依據《憲法》上的(B)避免緊急危難之理由。
- C；依憲法增修條文第12條規定：「憲法之修改，須經立法院立法委員四分之一之提議，四分之三之出席，及出席委員四分之三之決議，提出憲法修正案，並於公告半年後，經中華民國自由地區選舉人投票複決，有效同意票過選舉人總額之半數，即通過之，不適用憲法第一百七十四條之規定。」
- D；「政黨分配門檻」的限制，其主要理由是：(D)避免小黨林立，參選爆炸。
- C；(A)為維持司法獨立，依我國憲法規定，「法官」享有終身職。
(B)大法官負責審理「總統、副總統之彈劾案」及「政黨違憲之解散事項」。
(D)大法官組成憲法法庭審理「總統、副總統」之彈劾案。

11. D；為矯正土地過度開發，造成環境污染與生態破壞之外部成本，政府最適當的作法是大力宣導以及(D)制定並確實執行環境保護法規。
12. D；(A)嘉義市(B)基隆市：省轄市；(C)嘉義縣：與「省轄市」同級；(D)桃園市：縣轄市。
本題應選(D)桃園市。
13. D；憲法第97條規定：
「監察院經各該委員會之審查及決議，得提出糾正案，移送行政院及其有關部會，促其注意改善。
監察院對於中央及地方公務人員，認為有失職或違法情事，得提出糾舉案或彈劾案，如涉及刑事，應移送法院辦理。」
14. A；一般認為「共享性」與「無法排他性」是「公共財」最主要的特徵。
15. C；權利濫用係在外觀上為權利的行使，實質上卻違反權利的社會性，因而不能認為正當行使權利的行為。民法第148條第1項規定：「權利之行使，不得違反公共利益，或以損害他人為主要目的。」即確定權利是否濫用之一種抽象、消極的標準。
16. C；本題中，(C)醫師到海地義診，「並非」以獲取收入為目的之勞務，不屬於勞動的範疇。
17. B；②土地買賣、③房屋買賣屬於「不動產」之買賣，須簽訂書面契約才有法律效力。
18. C；本題中，利用相同的生產資源，甲國能生產800噸稻米和200噸大豆（相當於甲國能生產2400噸稻米和600噸大豆），乙國則能生產1000噸稻米和600噸大豆，根據比較利益法則，甲國應生產、出口稻米，進口大豆，本題應選(C)。
19. C；(A)「法官」辦案應秉持不告不理、無罪推定原則。
(B)民事糾紛進入法院訴訟程序後，「仍」能再進行和解或調解。
(D)重大犯罪被告或嫌疑人有串證、逃亡之虞時，「法官」依法可羈押之。
20. B；(A)七歲以下者屬於無行為能力人。
(C)民法第七條：「胎兒以將來非死產者為限，關於其個人利益之保護，視為既已出生。」
(D)未滿「七」歲的兒童，其法律行為必須經由法定代理人為之，否則無效。
21. A；文化的特徵
(一)普遍性：
1. 內容：每一個人類社會的文化皆具有許多共同點。
2. 例如：如各國的文化皆有屬於自己語言與風俗習慣，以表達與傳播人類的觀念。
(二)累積性：
文化可視為一種經年累月的歷史痕跡。人類文化的創造，經由代代相傳，亦由簡單而複雜。
(三)差異性：
世界各地因民情風俗和生活習慣的不同，在文化的內容、形式或發展程度上皆有所差異。
(四)約制性：
人類創造文化，同時亦被文化所限制和約束。例如人類發明了電腦網路，同時以法律來限制及約束網路行為。
22. C；2002年1月1日我國以「臺灣、澎湖、金門及馬祖個別關稅領域」的名稱加入(C)世界貿易組織(WTO)。
23. D；(A)「關稅」和「配額」是在稅制上做調整，但其目的是「相同」的貿易政策。
(B)只要擁有「比較利益」，不一定要擁有「絕對利益」，兩國之間就可以藉著貿易互蒙其利。
(C)「配額」與要求相對國「自動出口設限」，都是在數量上對進口商品的限制。
24. D；產品的市場需求增加，廠商也主動增產，此時(D)市場均衡價格可能上升或下降，但均衡數量一定增加。
25. D；由辛巴威紙鈔面額的變化（於2007年12月發行75萬辛元面額的紙鈔，復於2008年1月18日發行100萬、500萬與1000萬辛元面額的紙鈔。），可推知該國的經濟狀況為(D)通貨膨脹，貨幣購買力變低。
26. #；考選部公告本題一律給分。

27. D；就影響消費行為的因素來看，民眾相繼搶購職棒周邊產品之現象最有可能是受到(D)主觀偏好因素之影響。
28. C；本題中，③網路商店、④證券交易所具有「無形市場」的性質。
29. A；NN超商之成立「綠色基金」，長期贊助「荒野保護協會」的活動與研究，最能反映(A)企業從事公益活動是善盡其社會責任。
30. D；由固定的釋憲機關進行相關條文的釋憲任務，是一般成文憲法國家，除透過修憲程序外，最常用以使憲法能更有效發揮功能之作法。
31. C；一般長期消滅時效（如債務債權）為15年，短期為5年（如利息、租金、膳養費、退職金）或2年（如旅店飲食費、運送費）。
32. B；當法國混合制政府之總統與總理分屬不同政黨時，會出現左右共治，此為法國混合制政府的最大特色。
33. B；四種理財工具的投資報酬率：
(A)甲： $4000/100000=0.04$ (B)乙： $3500/60000=0.058\cdots$
(C)丙： $6000/120000=0.05$ (D)丁： $1600/80000=0.02$
34. D；(D)判決後科以罰金；屬於刑罰。
35. B；刑法之阻卻違法事由包括：
(1) 依法律或命令的行為：但明知命令違法者，卻仍依命令而行者，則構成違法。
(2) 業務上正當的行為：指從事特定業務的人，基於業務所做正當且合法的行為。
(3) 正當防衛行為：指對於現在發生的不法侵害，為了防衛自己或他人權利受到侵害，而進行的防衛行為，但若「防衛過當」，仍須受處罰，但得減輕或免除其刑。
(4) 緊急避難行為：是指在緊急狀態下，為了避免自己或他人生命、身體、自由、財產遭到危險而做出的不得已行為，但必須是避免權利受侵害之最後手段。若有過當，仍須處罰，但得減輕或免除其刑。

101年公務人員初等考試試題

等別：初等考試

類科：一般行政

- () 下列那個敘述符合「需求」的定義？
(A)在某個特定的價格下，消費者願意並且能夠購買的數量，也就是需求線上的一點
(B)在各個不同價格下，消費者願意並且能夠購買的數量，其價量關係由需求線來描述
(C)在各個不同價格下，廠商願意並且能夠提供的數量，其價量關係由供給線來描述
(D)在某個特定的價格下，廠商願意並且能夠提供的數量，也就是供給線上的一點
- () 依據我國票據法規定，下列何者為可逕行流通之票據？
(A)股票 (B)郵票 (C)匯票 (D)鈔票
- () 「壓力團體」不同於政黨，其主要特質表現在那二方面？ ①不提名參與選舉 ②不以執政為目的 ③關心所有政治議題 ④不參與助選或遊說
(A)①② (B)①④ (C)②③ (D)③④
- () 根據一般議事規則之規定，當議場的突發事件或狀況，例如有人大聲喧嘩、鼓譟，造成會場秩序混亂，足以影響出席人的權益時，出席人得向主席提出何種問題，來保障開會成員的權益？
(A)秩序問題 (B)動議問題 (C)權宜問題 (D)程序問題
- () 白約翰是某國政府官員，日前代表國家出席一項官方國際組織的年會，並簽署一份促進國際合作的共同備忘錄。白約翰出席的國際組織年會可能是下列何者？
(A)國際特赦組織 (B)國際民航組織
(C)國際紅十字會 (D)國際奧林匹克委員會
- () 依照勞動基準法的規定，所謂「童工」是指幾歲的少年？
(A)12歲以上未滿15歲 (B)13歲以上未滿14歲
(C)14歲以上未滿15歲 (D)15歲以上未滿16歲

7. () 依據我國憲法增修條文規定，總統、副總統彈劾案的提案權與審理權分別屬於那些機構？①立法院 ②行政院 ③監察院 ④憲法法庭
(A)①② (B)①④ (C)②③ (D)③④
8. () 依據我國憲法的規定，那些職務的人在行使其職權時，必須超出黨派之外，獨立行使其職權，以保持其立場的公正與客觀？
①法官 ②監察委員 ③考試委員 ④立法委員 ⑤政務委員
(A)①②③ (B)①②④ (C)②③⑤ (D)③④⑤
9. () 憲法為保障人身自由權，明文規定非依法定程序，不得逮捕或拘禁，此處「法定程序」是由下列何種法律所規定？
(A)刑事訴訟法 (B)民事訴訟法 (C)刑法 (D)民法
10. () 下列何者為影響經濟學「供給法則」的關鍵因素？
(A)商品銷售的數量 (B)商品銷售的價格
(C)所得水準的高低 (D)社會的預期心理
11. () 我國人民選舉權的行使，必須依照普通、平等、直接及無記名四大原則來進行，下列有關此四大原則的敘述，何者正確？
(A)每個選民投票的效力皆相同即為普通原則
(B)每個人滿20歲都有投票權即為平等原則
(C)選民能親自或委託他人投票即為直接原則
(D)選民可以秘密圈選候選人即為無記名原則
12. () 我國消費者保護法規定，消費者以郵購方式購買商品，若不滿意可在幾天內退回商品並取回貨款？ (A)3天 (B)7天 (C)15天 (D)30天
13. () 老師要同學們找不同的國家進行政治制度的比較，於是大雄就著手蒐集英國和沙烏地阿拉伯的相關資料，以便做專題報告，結果他發現這兩個國家的政治體制，有相同也有相異之處，請問下列大雄對於兩國政治制度所作的比較，何者正確？
(A)國家元首產生的方式相同 (B)兩國的國家元首都握有政治實權
(C)兩國的政體相同 (D)兩國的統治者都不必向人民負責
14. () 貨幣數量增多並不見得是好事，因其會引發下列那一種現象？
(A)通貨膨脹 (B)信用緊縮 (C)物價下跌 (D)產生比較利益

15. () 面對全球化的浪潮，何種觀點與做法是較不正確的？
(A)應和諧開放與尊重差異的多元文化
(B)了解文化交流帶來的影響都是正面
(C)努力推動全球在地化、在地全球化
(D)國際共同打擊犯罪、遏止疾病傳染
16. () 對於未滿14歲的少年犯罪行為，應依何種法律加以處置？
(A)刑法
(B)少年事件處理法
(C)兒童及少年福利與權益保障法
(D)家庭暴力防治法
17. () 小小、大大、中中、心心四個人熱烈討論我國社會團體的主要任務，請問：下列四個人的說法，何者是錯誤的？
(A)小小說：「勵馨基金會就是從事不幸少女的救援與輔導工作」
(B)大大說：「董氏基金會在推動禁菸及反毒害的工作」
(C)中中說：「臺灣更生保護會在推動平時和戰時的救災和救援行動」
(D)心心說：「喜憨兒基金會致力於改變社會大眾對心智障礙者之刻板印象，讓他們由『被服務者』能成為『服務者』」
18. () 小明的父母離婚後，小明的父親將小明送回老家，由祖父母照顧養育，小明的父親則隻身赴國外工作。請問：小明與祖父母相依為命，這是屬於下列那種家庭類型？
(A)核心家庭 (B)折衷家庭 (C)單親家庭 (D)隔代家庭
19. () 我國於民國76年解除戒嚴之後，政府為實現憲法所保障的人民結社自由，特別制定那一種法律以為規範？
(A)人民團體法 (B)地方制度法 (C)集會遊行法 (D)社會秩序維護法
20. () 「不要把雞蛋放在同一個籃子裡」是分散風險的做法，下列那一項投資理財的工具其風險比較低，但相對報酬也較低？
(A)存款 (B)股票 (C)債券 (D)基金
21. () 我們的牙齒偶而也會咬到自己的舌頭，更何況是個性差異的獨立個體聚在一起。一家人朝夕相處，發生衝突與摩擦的機會相當多，但大多數都是為了家人彼此，因此要妥善而技巧的處理，下列那一種是處理家庭衝突較適宜的方式？
(A)子女撥打婦幼專線對應親子管教的衝突
(B)透過家庭會議共同解決家務分工的衝突
(C)停止發放零用錢以避免親子金錢的衝突
(D)家人不要同住一屋可免生活習慣的衝突

22. () 當行政機關有違法或不當處分，造成人民權益受損，人民有權向原處分機關的上級機關提起訴願，不服訴願決定時，首先可以向下列那一個機關提出行政訴訟？
(A)地方行政法院 (B)地方法院行政庭 (C)高等行政法院 (D)最高行政法院
23. () 小趙因懷疑女友玫瑰變心，而將玫瑰關在他的房間裡，一週後終於被玫瑰的父母找到。請問：小趙的行為在法律上應負何種責任？
(A)民事責任 (B)刑事責任 (C)行政責任 (D)道義責任
24. () 吳念真導演曾報導一則關於單親且隔代教養的真實故事－「阿祖的兒子」，引發社會各界對當事人的關心和協助，這是發揮何種力量？
(A)家庭 (B)同儕團體 (C)學校 (D)傳播媒體
25. () 趙先生從外國買進一輛轎車自用，運回臺灣時，他必須為此車負擔何種稅？
(A)關稅 (B)貨物稅 (C)贈與稅 (D)營利事業所得稅
26. () 日本最南端的珊瑚礁島「沖之鳥島」，近年來因受到地球暖化、水平面上升等環境變化影響，使得周邊珊瑚漸減，已有遭水淹沒之虞，水產廳正在設法全力搶救。請問：上述日本的做法，最主要是為了避免構成國家的那一個要素受到衝擊？ (A)人民 (B)主權 (C)政府 (D)領土
27. () 依據我國憲法規定，政府是依五權分立的形式行使治權，相較於三權分立的國家，我國是將考試權和監察權依序分別從那兩項治權中獨立出來？
(A)行政權、立法權 (B)行政權、司法權
(C)立法權、司法權 (D)司法權、立法權
28. () 「歷史可以被原諒，但不可以被忘記」，臺灣政治的發展歷經多次重大事件，犧牲了不少先人寶貴的生命，民主的果實可謂得來不易。下列這些事件都是我國追求民主、自由的重要里程碑，若依發生時間的先後排列其順序應為何？ ①中壢事件 ②228事件 ③總統民選 ④解除戒嚴
(A)①②③④ (B)②③④① (C)②①④③ (D)①②④③
29. () 汽車通過高速公路收費站所交的通行費，是屬於政府的那一項收入？
(A)租稅 (B)規費 (C)公營事業 (D)公債
30. () 技安今年25歲，觸犯刑法的規定而構成犯罪行為時，需負刑事責任。請問下列那一項行為，應負起刑事責任？
(A)訂婚後解除婚約 (B)騎乘機車行走快車道
(C)將拾獲的物品占為己有 (D)與有犯罪前科的人結婚

31. () 就我國現行憲法之規定，下列何者屬於人民享有的「受益權」範圍？
 (A)訴訟權 (B)出版自由 (C)秘密通訊自由 (D)參加國家考試之權
32. () 下列關於「一黨制」政黨體制的敘述，那一項是正確的？
 (A)古巴、北韓、墨西哥就是「一黨專政制」的典型國家
 (B)「一黨專政制」的政黨體制通常不會出現在實行民主政治的國家
 (C)一個國家如果只准許一個政黨合法的存在，稱為「一黨獨大制」
 (D)由一個主要的政黨長期執政，其他小黨合法存在，卻無法與之抗衡，稱為「一黨專政制」
33. () 亞洲開發銀行協助會員國發展經濟，改善人民生活，主要是透過那些途徑？①資金提供 ②技術支援 ③經驗交換 ④軍備採購 ⑤文化交流
 (A)①②③ (B)①③⑤ (C)②③④ (D)②④⑤
34. () 愛德華八世原本是英國王位繼承人，但最後他為了和心愛的人結婚，宣布退位並被降為溫莎公爵。依據相關經濟概念，下列敘述何者最符合溫莎公爵「不愛江山，愛美人」選擇的意義？
 (A)江山是一種「機會成本」 (B)江山是一種「內部成本」
 (C)美人是一種「會計成本」 (D)美人是一種「外部成本」
35. () 下列何種法律的制定目的在維護交易秩序，以確保公平競爭並促進經濟的安定與繁榮？
 (A)消費者保護法 (B)公平交易法 (C)社會秩序維護法 (D)信用合作社法

解答與提示

- B；所謂「需求」，是指在某一段固定的時間內，消費者對某一商品或勞務，「願意」而且「能夠」購買的數量及相對應的價格。
- C；票據法第2條：稱匯票者，謂發票人簽發一定之金額，委託付款人於指定之到期日，無條件支付與受款人或執票人之票據。
- A；「壓力團體」與政黨最大的不同在於：「壓力團體」①不提名參與選舉；②不以執政為目的。
- C；權宜問題：根據一般議事規則之規定，對於議場偶發之緊急事件，足以影響議場全體或個人權利者，得提出(C)權宜問題(權益問題)。
- B；(A)國際特赦組織、(C)國際紅十字會、(D)國際奧林匹克委員會皆屬於「非官方國際組織」。
- D；勞動基準法第44條規定：
 「十五歲以上未滿十六歲之受僱從事工作者，為童工。童工不得從事繁重及危險性之工作。」
- B；中華民國憲法增修條文第2條規定：
 「立法院提出總統、副總統彈劾案，聲請司法院大法官審理，經憲法法庭判決成立時，被彈劾人應即解職。」
- A；④立法委員一選舉產生。⑤政務委員---行政院長提請總統任命。
 ④⑤不需超出黨派之外。

9. A；憲法中有關人身自由權規定之「法定程序」，主要是由(A)刑事訴訟法所規定。
10. B；供給法則所反映的是商品本身價格和商品供給量之間的關係。對於一般商品而言，在其他條件不變的情況下，商品價格與供給量之間存在著同方向的變動關係，即一種商品的價格上升時，這種商品的供給量增加，相反，價格下降時供給量減少。影響經濟學「供給法則」的關鍵因素為(B)商品銷售的價格。
11. D；(A)每個選民投票的效力皆相同即為平等原則。
(B)每個人滿20歲都有投票權即為普通原則。
(C)選民能親自投票即為直接原則。
12. B；消費者保護法第19條規定：
「郵購或訪問買賣之消費者，對所收受之商品不願買受時，得於收受商品後七日內，退回商品或以書面通知企業經營者解除買賣契約，無須說明理由及負擔任何費用或價款。」
13. A；(B)英國的國家元首「並不」握有政治實權。
(C)兩國的政體「並不」相同。
(D)英國的統治者必須向人民負責。
14. A；貨幣數量增多常引發(A)通貨膨脹。
15. B；文化交流帶來的影響有正面也有負面，而非完全都是正面的。
16. B；少年事件處理法第1-1條：少年保護事件及少年刑事案件之處理，依本法之規定；本法未規定者，適用其他法律。
少年事件處理法第2條：本法稱少年者，謂十二歲以上十八歲未滿之人。
17. C；紅十字會在推動平時和戰時的救災和救援行動；臺灣更生保護會：以心靈重建，輔導就業等方式，協助出獄人重返社會生活。
18. D；由祖父母照顧養育孫子女之『隔代教養』，屬於(D)隔代家庭之家庭類型。
19. A；人民團體法第1條：
「人民團體之組織與活動，依本法之規定；其他法律有特別規定者，適用其規定。」
20. A；一般認為本題中四種投資理財工具的風險由高至低依次為：(B)股票、(D)基金、(C)債券、(A)存款。
21. B；(A)(C)(D)選項皆非處理家庭衝突較適宜的方式。
22. C；人民不服訴願決定時，首先可以向(C)高等行政法院提出行政訴訟。
23. B；小趙的行為觸犯了刑法之「妨害自由罪」，在法律上應負(B)刑事責任。
24. D；透過媒體報導「阿祖的兒子」，引發社會各界對當事人的關心和協助，這是發揮(D)傳播媒體影響社會的力量。
25. #；進口小汽車應繳進口稅費，包括關稅、貨物稅、營業稅及推廣貿易服務費。故本題考選部公告答(A)或(B)均給分。
26. D；日本水產廳全力搶救「沖之鳥島」的做法，最主要是為了避免國家構成要素中之(D)領土受到衝擊，進而喪失對於附近海域管轄權的主張。
27. A；相較於三權分立的國家，我國是將考試權自行行政權獨立出來，監察權自立法權獨立出來。
28. C；依發生時間的先後排列順序應為：②228事件、①中壢事件、④解除戒嚴、③總統民選。
29. B；規費是政府機關因為提供了特定服務、設備，或設定某種權利，或為達成某種管制政事目的，而對特定對象按成本或其他標準所計收的款項。不是經常性，也沒有延續性，有特定用途，通常採取使用者付費的原則，依據個人需要計收，比如戶籍謄本、土地登記費等；有一些規費的徵收範圍比較廣，也像稅捐一樣具有強制性，例如汽、機的燃料費，150C.C.以下的機車是不用繳納使用牌照稅的，卻必須於每2年換發行車執照時繳納燃料費；燃料費採專戶儲存，指定用於公路及市區道路的養護、修建及安全管理之用。
30. C；將拾獲的物品占為己有涉及刑事侵占罪。
31. A；(B)出版自由；自由權。(C)秘密通訊自由；自由權。(D)參加國家考試之權；參政權。

32. B ; (A)墨西哥非「一黨獨大制」的典型國家。
(C)一個國家如果只准許一個政黨合法的存在，稱為「一黨專政制」。
(D)由一個主要的政黨長期執政，其他小黨合法存在，卻無法與之抗衡，稱為「一黨獨大制」。
33. A ; 亞洲開發銀行主要是透過①資金提供、②技術支援、③經驗交換途徑，協助會員國發展經濟，改善人民生活。
34. A ; 溫莎公爵之「不愛江山，愛美人」，其中(A)江山是「愛美人」之「機會成本」。
35. B ; 公平交易法第1條：
「為維護交易秩序與消費者利益，確保公平競爭，促進經濟之安定與繁榮，特制定本法；本法未規定者，適用其他有關法律之規定。」

101年公務人員初等考試試題

等別：初等考試

類科：社會行政、人事行政、勞工行政、教育行政、財稅行政、金融保險、統計、會計、經建行政、地政、圖書資訊管理、政風、電子工程

- () 依我國憲法第81條規定，「法官為終身職，非受刑事或懲戒處分，或禁治產之宣告，不得免職。非依法律，不得停職、轉任或減俸。」試問此一條文的立法原意，主要是希望落實下列那一項理念？
(A)政治平等 (B)司法獨立 (C)責任政治 (D)主權在民
- () 下列關於內閣制的敘述，何者正確？
(A)閣揆由總統直接任命產生 (B)行政權和立法權分權制衡
(C)國會可對元首提不信任案 (D)國會議員得兼任內閣閣員
- () 一個人自出生開始，在成長的過程中，持續受到來自家庭、學校、同儕團體與傳播媒體的影響，不斷地學習表現出符合社會期待的行為。上述這種學習的過程，我們稱其為下列何者？
(A)在地化 (B)社會化 (C)全球化 (D)階層化
- () 有關民事訴訟與刑事訴訟的概念，下列那一項敘述是正確的？
(A)所有的民事訴訟都可以上訴至最高法院
(B)所有的刑事訴訟都可以上訴至最高法院
(C)民事和刑事訴訟的受害者都可提起訴訟
(D)民事和刑事訴訟都可請檢察官提起訴訟
- () 依據中央法規標準法規定，下列何者屬於狹義法律的範疇？
(A)細則 (B)辦法 (C)綱要 (D)條例
- () 新竹誠正中學，這所矯正學校主要是收容受到那些處分的少年？
①假日生活輔導 ②保護管束 ③感化教育 ④判處徒刑
(A)①② (B)②③ (C)③④ (D)①④
- () 技安向相關單位陳情，任公職的大雄違法和失職的具體行為，經監察院彈劾，並移送公務員懲戒委員會懲戒。此種作法最符合民主政治的那一項特色？ (A)責任政治 (B)法治政治 (C)政黨政治 (D)民意政治
- () 臺灣相較於大陸或東南亞國家，由於地價上漲、工資高昂，並不適合發展勞力密集性產業，然而臺灣教育普及，人民知識水準較高，利於發展技術

- 密集產業和知識經濟為主，請問此一現象是根據何種經濟原理？
(A)稀少性 (B)比較利益 (C)供需法則 (D)收支平衡
9. () 「只要我喜歡，有什麼不可以！」這種忠於人類原始衝動並強調立即滿足的傾向，主要呈現佛洛伊德分析之人格結構中那一個部分的特質？
(A)超我 (B)自我 (C)主我 (D)本我
10. () 依據中華民國憲法第1條規定：「中華民國基於三民主義，為民有、民治、民享之民主共和國」，由此項立法精神的概念，可以推知下列那一項為我國的政治特徵？
(A)我國政府體制屬總統制 (B)我國為民主政體
(C)我國為宗教自由的國家 (D)我國為多黨制國家
11. () 報載金融海嘯以來，臺灣女性的勞動參與率增長至50%，但這仍是亞洲四小龍中最低的。這個數值應該是從那一種市場中得知的？
(A)金融市場 (B)商品市場 (C)要素市場 (D)股票市場
12. () 從經濟學理與歷史經驗看來，嚴重的物價膨脹最常發生在下列那種情況？
(A)泡沫經濟結束以後
(B)石油供給危機以及戰後
(C)一國的失業率開始急速增加的時候
(D)全球的投機型投資客大舉進入股市以後
13. () 行政院青年輔導委員會與各地非營利組織合作推行「遊學臺灣」活動，鼓勵15到30歲的青年以多元方式認識鄉土，培養對臺灣這塊土地的熱情與關懷。請問行政院青年輔導委員會是企圖透過那一種方式來培養青年的公民素養？
(A)公民自治 (B)公民美學 (C)公民參與 (D)公民投票
14. () 在計算我國的國民生產毛額（GNP）時，下列那一項應包括在內？
(A)阿福在臺北東區路邊擺地攤所賺得的收入
(B)外商公司在我國的營業收入
(C)阿春在高雄二手車市場所賺得的薪水
(D)小山給予媽媽帶小孩的費用

15. () 關於我國刑事訴訟法的相關條文規定，下列敘述何者正確？
- (A) 檢察官主動偵查犯罪行為後，認為必要時可向法院提起告發
 - (B) 當有任何人知道犯罪事實時，均可向偵查機關報告，此即為自訴
 - (C) 告訴乃論之罪，若無人提出告訴，則檢察官不得偵查起訴
 - (D) 公訴是指犯罪被害人向地方法院提起訴訟，請求法院判決被告有罪之謂
16. () 下列那一種供需方式是以市場機能來調節供給與需求，對生產者與消費者都同時最有利？
- (A) 拍賣網站上的自由競標銷售
 - (B) 新臺幣升值嚴重，中央銀行釋出新臺幣
 - (C) 颱風期間政府保證最低農產品收購價格
 - (D) 臺灣口罩價格飆高，政府提供平價口罩
17. () 我國刑法中關於「罪刑法定主義」原則的敘述，下列何者正確？
- (A) 為匡正社會秩序，某些行為若已違反風俗習慣，法官即應判定犯法
 - (B) 為因應時代潮流，法官可援引他國判例來認定犯罪行為並加以量刑
 - (C) 若立法院在行為人作出某行為後，始立法通過認定該行為觸法，則該行為人亦須受到刑罰
 - (D) 法律無明文規定處罰的行為，不得任意處罰之
18. () 請問在以下四人的言談中，何者的說法符合我國現行的民刑事訴訟制度的規定？
- (A) 阿密：「民事紛爭一旦進入法院訴訟程序後，就不能再進行調解或和解了！」
 - (B) 小光：「其實當碰到重大犯罪被告或嫌疑人有串證、逃亡之虞時，檢察官就可自行決定，直接將他們逕行羈押的喔！」
 - (C) 雯雯：「雖然我國的民事與刑事訴訟原則採三級三審制，但均另有上訴第三審的限制。」
 - (D) 美美：「當有警方或社工通報而知悉有犯罪嫌疑者時，法官即可主動進行審理及判決。」
19. () 下列關於家庭暴力的敘述，那一項是正確的？
- (A) 社經地位較低者才會用暴力解決問題
 - (B) 有偏差行為的家庭成員才會被施暴
 - (C) 精神虐待不構成家庭暴力
 - (D) 言語恐嚇也算是家庭暴力

20. () 小敏是一位關心臺灣環境保護問題的家庭主婦，多年來她熱心擔任環保志工，多次參與由不同環保團體所舉辦的遊行請願與推廣教育活動。這些環保團體的參與成員，彼此基於自由意志，願意為了追求環保理念的落實，自動自發的支持團體的目標與價值。請問我們稱這些團體為下列何者？
(A)職業團體 (B)志願團體 (C)非志願團體 (D)宗教團體
21. () 下列關於文化交流的敘述何者正確？
(A)文化交流的影響都是正面的 (B)文化交流會促進世界大一統文化
(C)文化交流是從工業革命後開始存在 (D)文化交流會豐富本土文化的內涵
22. () 臺灣的大眾文化深受歐、美、日本等影響，但臺灣在地文化也逐漸興起，藉由重新包裝和創新等途徑，使傳統的茶藝、歌仔戲與布袋戲等都得以再度成為流行風潮。下列何者最足以解釋上述現象？
(A)臺灣傳統文化成為全球主流文化 (B)跨國企業影響各地休閒生活型態
(C)全球文化與本土文化的共存融合 (D)全球化促使文化發展趨向單一化
23. () 依據我國法律規定檢察總長的產生方式和下列何者相同？
(A)法官 (B)大法官 (C)立法委員 (D)立法院院長
24. () 雅君一家為低收入戶，她的家庭可以向政府請領生活津貼，以維持生計。根據上述判斷，這屬於政府的那一項重要工作？
(A)教育文化 (B)社會服務 (C)經濟發展 (D)安全衛生
25. () 以下何種行為的處分，屬於「刑罰」？
(A)遭判決拘役20天 (B)遭裁定拘留3天
(C)遭罰鍰新臺幣1000元 (D)遭勒令停業一星期
26. () 下列何者指的是「一國以低於生產成本或國內售價，或是在政府資助下，低價將其產品外銷到他國」的行為？
(A)補貼 (B)傾銷 (C)設限 (D)保護
27. () 根據我國相關法律的規定，以下那一情況不得聲請調解？
(A)誹謗罪 (B)過失傷害罪 (C)妨害名譽罪 (D)妨害性自主罪
28. () 中央政府總預算案，是由①提出，交由②審議；中央政府之決算，是由③審核，交由④審議。依法律規定，①②③④依序為：
(A)立法院、行政院、監察院審計部、立法院
(B)行政院、立法院、監察院審計部、立法院
(C)行政院、立法院、司法院審計部、司法院
(D)行政院、立法院、立法院、監察院審計部

29. () 小白向某汽車經銷商購買一部休旅車，開車上路3個月後卻發現車上冷氣系統故障，小白隨即以新車瑕疵為由，要求車廠免費更換相關零件，不過商家卻回覆，此故障純屬個人使用習慣不當，故無法提供免費更換服務。請問小白此時可透過下列那一種法律途徑，來主張自己的權益？
(A)行政訴訟 (B)刑事訴訟 (C)民事訴訟 (D)抗告
30. () 學者常謂：「一個人自母體受胎開始，終其一生皆和民法發生關係，直到死亡才和民法脫離。」是故，民法的規定相當廣泛且細瑣。在我國民法法典中，屬於身分法的編章有那些？①物權編 ②債編 ③繼承編 ④親屬編
(A)①② (B)①③ (C)②③ (D)③④
31. () 在民主國家中，被視為行政、立法、司法權以外的「第四權」是指下列那一項？ (A)傳播媒體 (B)非政府組織 (C)社區組織 (D)政黨團體
32. () 依憲法和相關法律的規定，選舉資格中有包括選區戶籍登記時間的限制，亦即候選人戶籍必須登記在該選區4個月以上。請問：下列那一種選舉與上述規定的戶籍登記時間不同？
(A)總統、副總統 (B)臺北市市長 (C)屏東縣縣議員 (D)三星鄉鄉民代表
33. () 我國訴訟制度採二元訴訟制，若發生爭議則由大法官會議統一解釋。此「二元」制度所指為何？
(A)事實審、書面法律審 (B)普通法院、行政法院
(C)民事訴訟、刑事訴訟 (D)一般法院、專業法院
34. () 大雄在公民課時認識了各種團體的類型與性質，請選出下列何者都屬於「壓力團體」？
(A)教會/公會 (B)公會/工會 (C)學校/政黨 (D)同鄉會/同業公會
35. () 根據我國憲法規定，下列那一機關受理人民的陳情並糾正行政機關的不當施政？ (A)行政院 (B)立法院 (C)監察院 (D)司法院

解答與提示

1. B；我國憲法有關法官身分保障之相關規定，旨在落實(B)司法獨立之理念。
2. D；(A)閣揆「並非」由總統直接任命產生。
(B)內閣制強調行政權和立法權之「合一」。
(C)內閣制國會對「閣揆」提不信任案。
3. B；社會化意指人類學習、繼承各種社會規範、傳統、意識形態等周遭的社會文化元素，並逐漸適應於其中的過程。對個人來說，社會化是學習同時扮演社會上不同的角色的過程。個人社會化會受到地區文化的影響，因個人的成長背景，社會化的過程、內容也會隨之改變。
促進社會化的社會組織包括：學校、青少年中心、教堂等社交場合。